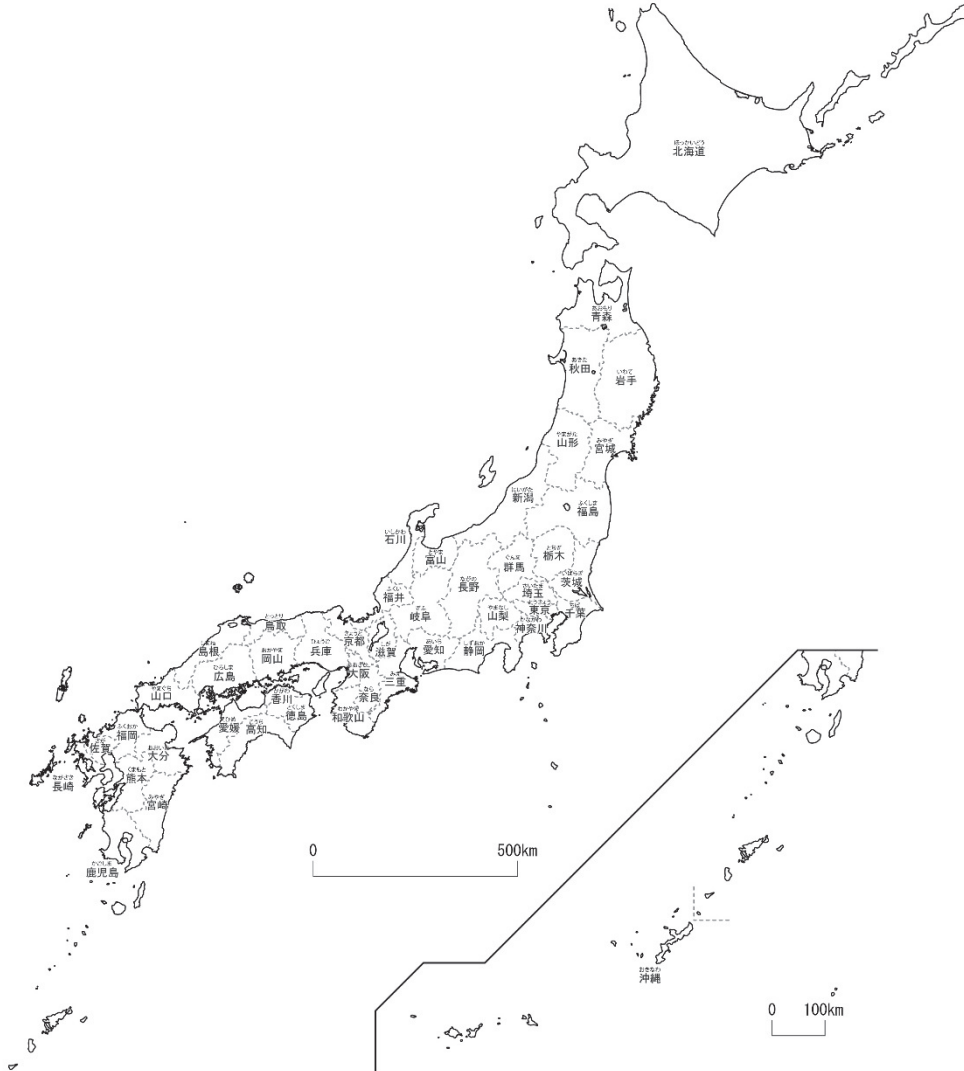


4-(1)	とどうふけん 日本の都道府県 1	___年 ___組
		名前

下の地図を見て答えましょう。



- ① あなたの住んでいる都道府県の名前を答え、赤色をぬりましょう。

ポイント 日本には、47都道府県（1都1道2府43県）があります。

- ② 都、道、府の名前をそれぞれ書きましょう。

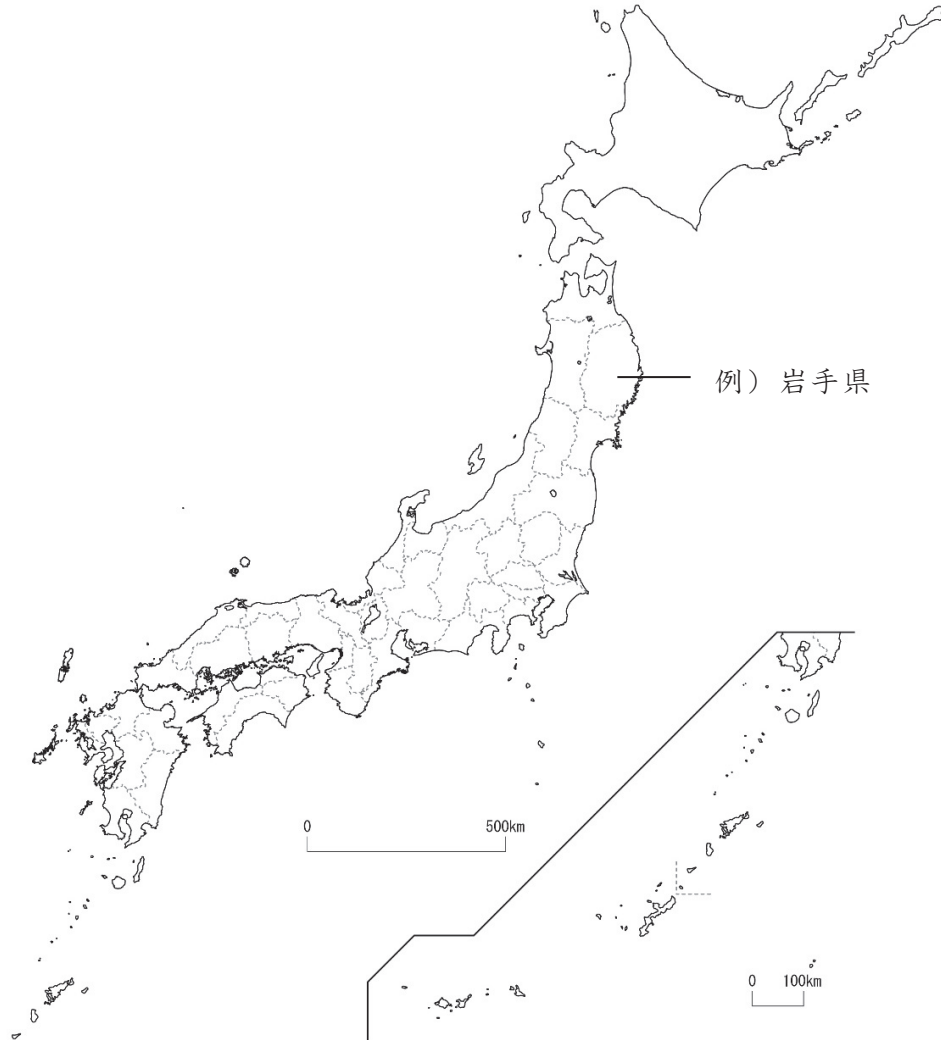
() 都 () 道

() 府 () 府

- ③ 東京都に面している県に青色をぬりましょう。

4-(2)	と どう ふ け ん 日本の都道府県 2	年 組
		名前

下の地図を見て答えましょう。



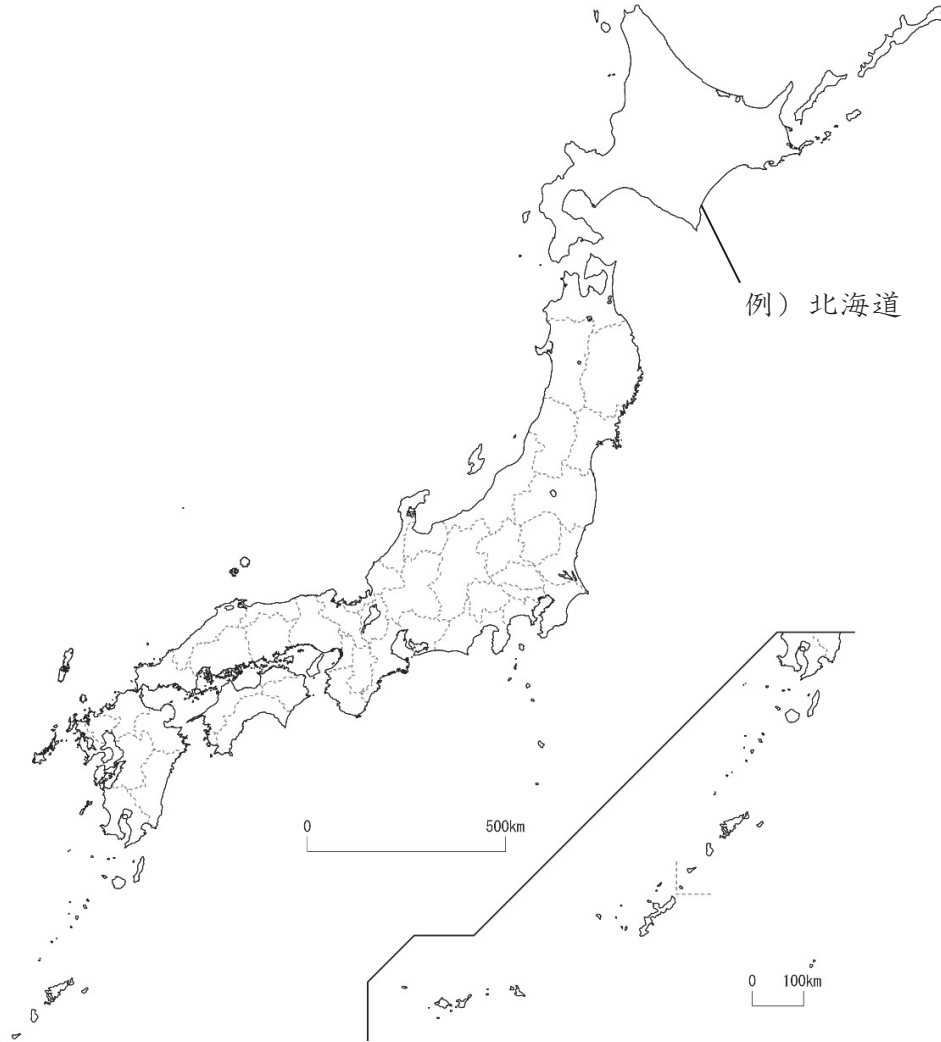
1 つぎの都道府県の位置を、例にならって白地図の中に書きましょう。

- | | | | | | |
|---------------------|--------------------|--------------------|------------------|--------------------|---------------------|
| ほ っ かい どう
北海道 | あ お も り け ん
青森県 | に い が た け ん
新潟県 | と や ま け ん
富山県 | ぐ ん ま け ん
群馬県 | し ず お か け ん
静岡県 |
| わ か や ま け ん
和歌山県 | お お さ か ふ
大阪府 | ひ ろ し ま け ん
広島県 | こ う ち け ん
高知県 | く ま も と け ん
熊本県 | か こ し ま け ん
鹿児島県 |

2 あなたが行ったことのある都道府県の名前を下の にすべて書き、上の地図に青色をぬりましょう。

4- (3)	日本の都道府県 3	___年 ___組
		名前

下の地図を見て答えましょう。



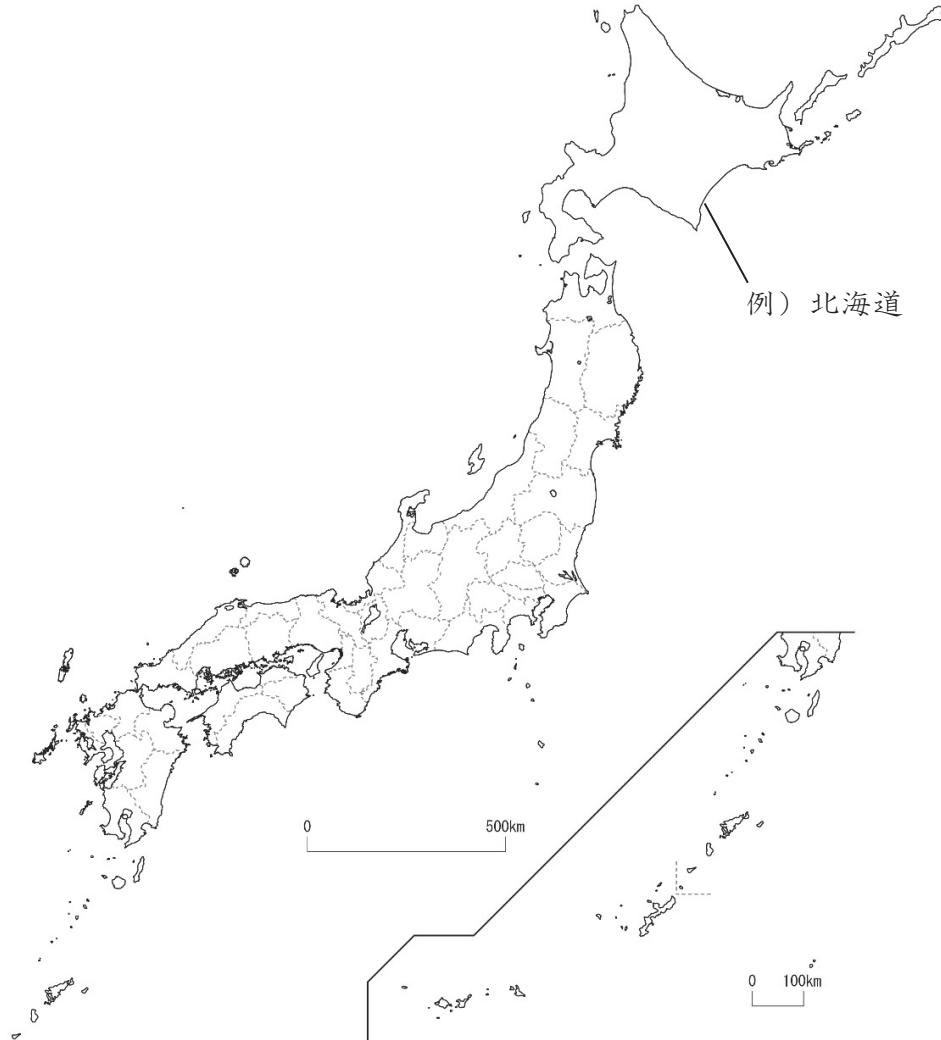
1 つぎの都道府県の位置を、例にならって白地図の中に入れて書きましょう。

いわて けん 岩手県	さいたま けん 埼玉県	いばらき けん 茨城県	いしかわ けん 石川県	あいち けん 愛知県	ぎふ けん 岐阜県
しが けん 滋賀県	なら けん 奈良県	かが けん 香川県	とっとり けん 鳥取県	しまね けん 島根県	

2 名前に「山」の字が入っている都道府県の名前を下の にすべて書き、上の地図に青色をぬりましょう。

4-(4)	と どう ふ け ん 日本の都道府県 4	年 組
		名前

下の地図を見て答えましょう。



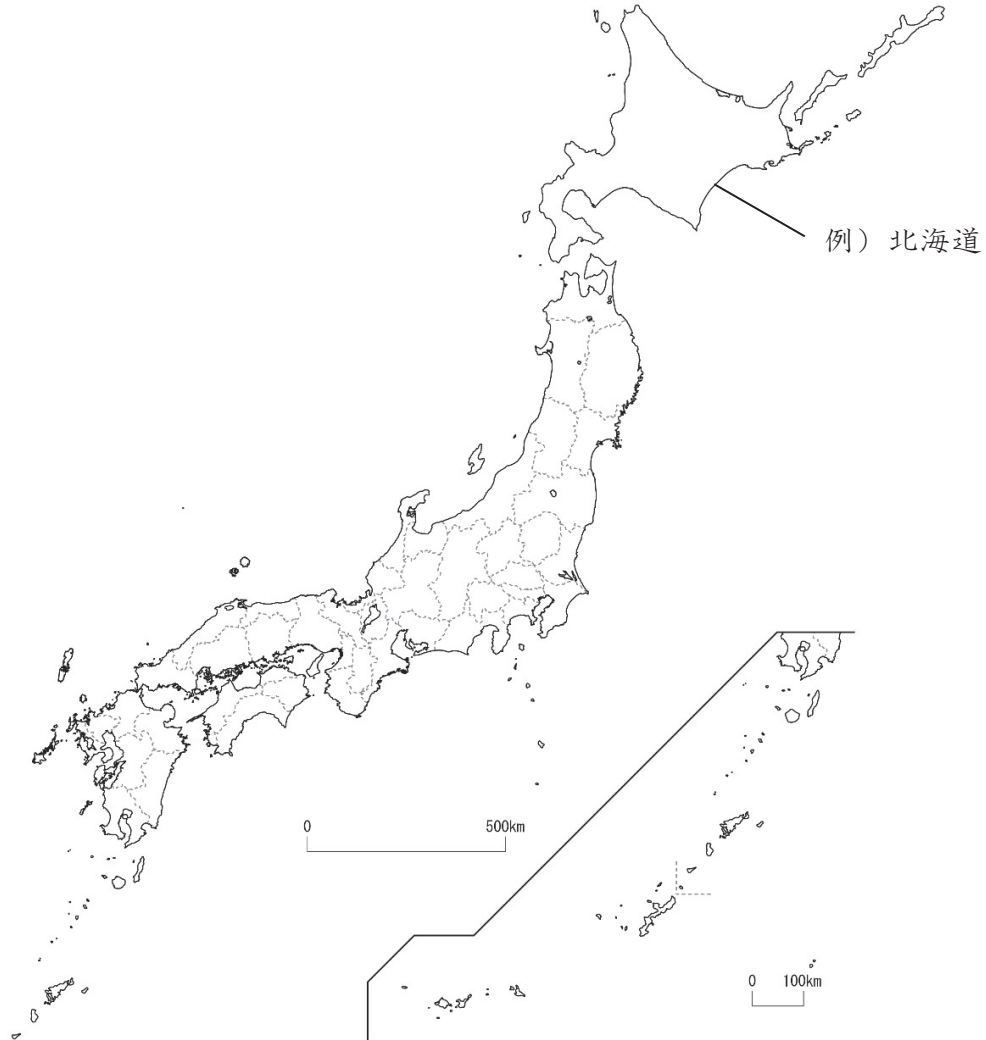
1 つぎの都道府県の位置を、例にならって白地図の中に書きましょう。

- | | | | | | |
|---------------|---------------|---------------|----------------|---------------|---------------|
| やまがたけん
山形県 | みやぎけん
宮城県 | ふくしまけん
福島県 | かながわけん
神奈川県 | ふくいけん
福井県 | とうきょうと
東京都 |
| ひょうごけん
兵庫県 | とくしまけん
徳島県 | ふくおかけん
福岡県 | さがけん
佐賀県 | みやざきけん
宮崎県 | おきなわけん
沖縄県 |

2 海に面していない都道府県の名前を下の にすべて書き、上の地図に青色をぬりましょう。

4-(5)	日本の都道府県 <small>と どう ふ け ん</small> 5	___年 ___組
		名前

下の地図を見て答えましょう。



1 つぎの都道府県の位置を、例にならって白地図の中に書きましょう。

<small>あきたけん</small> 秋田県	<small>とちぎけん</small> 栃木県	<small>ちばけん</small> 千葉県	<small>やまなしけん</small> 山梨県	<small>ながのけん</small> 長野県	<small>みえけん</small> 三重県
<small>きょうとふ</small> 京都府	<small>えひめけん</small> 愛媛県	<small>おかやまけん</small> 岡山県	<small>やまぐちけん</small> 山口県	<small>ながさきけん</small> 長崎県	<small>おおいたけん</small> 大分県

2 名前に「動物」の字が入っている都道府県の名前を下の にすべて書き、上の地図に青色をぬりましょう。