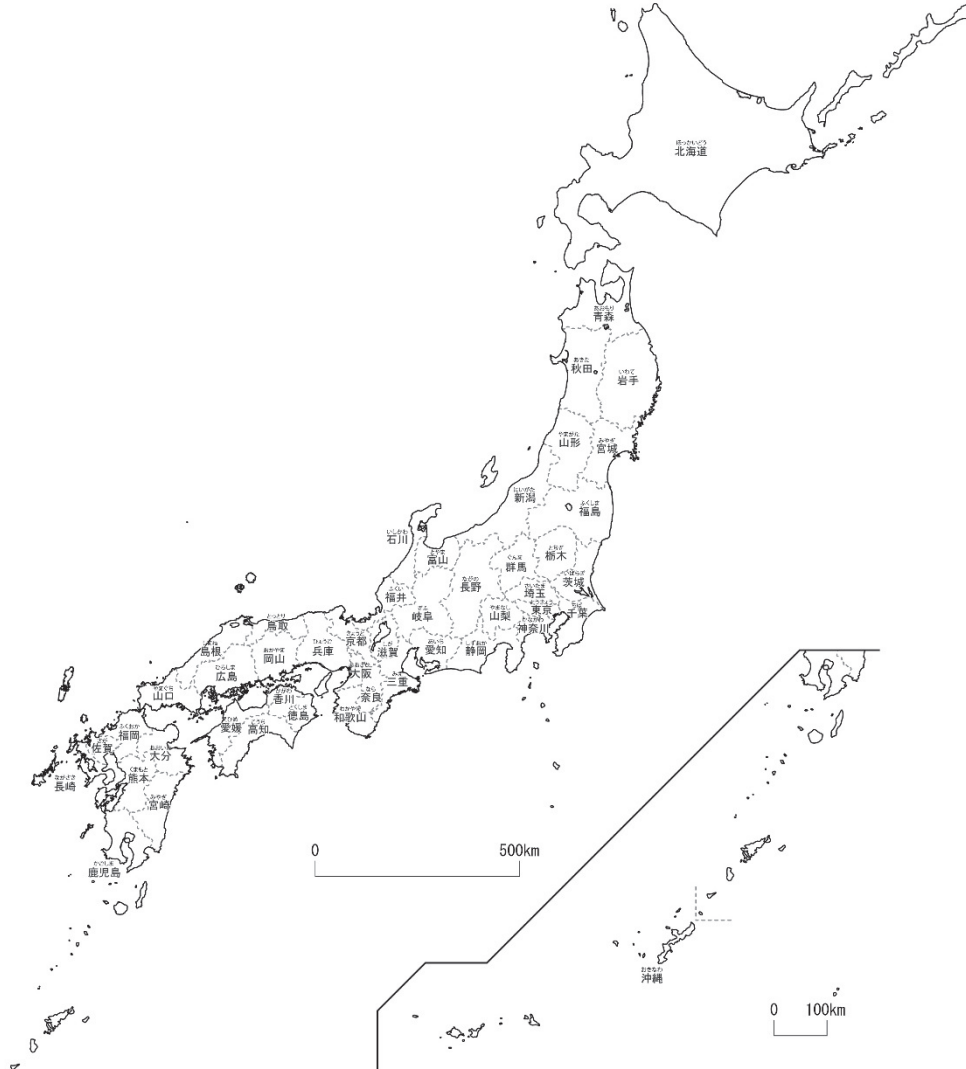


4-(1)	とどうふけん 日本の都道府県 1	___年 ___組
		名前

下の地図を見て答えましょう。



- ① あなたの住んでいる都道府県の名前を答え、赤色をぬりましょう。

東京都

**ポイント** 日本には、47都道府県（1都1道2府43県）があります。

- ② 都、道、府の名前をそれぞれ書きましょう。

( 東京 ) 都 ( 北海 ) 道

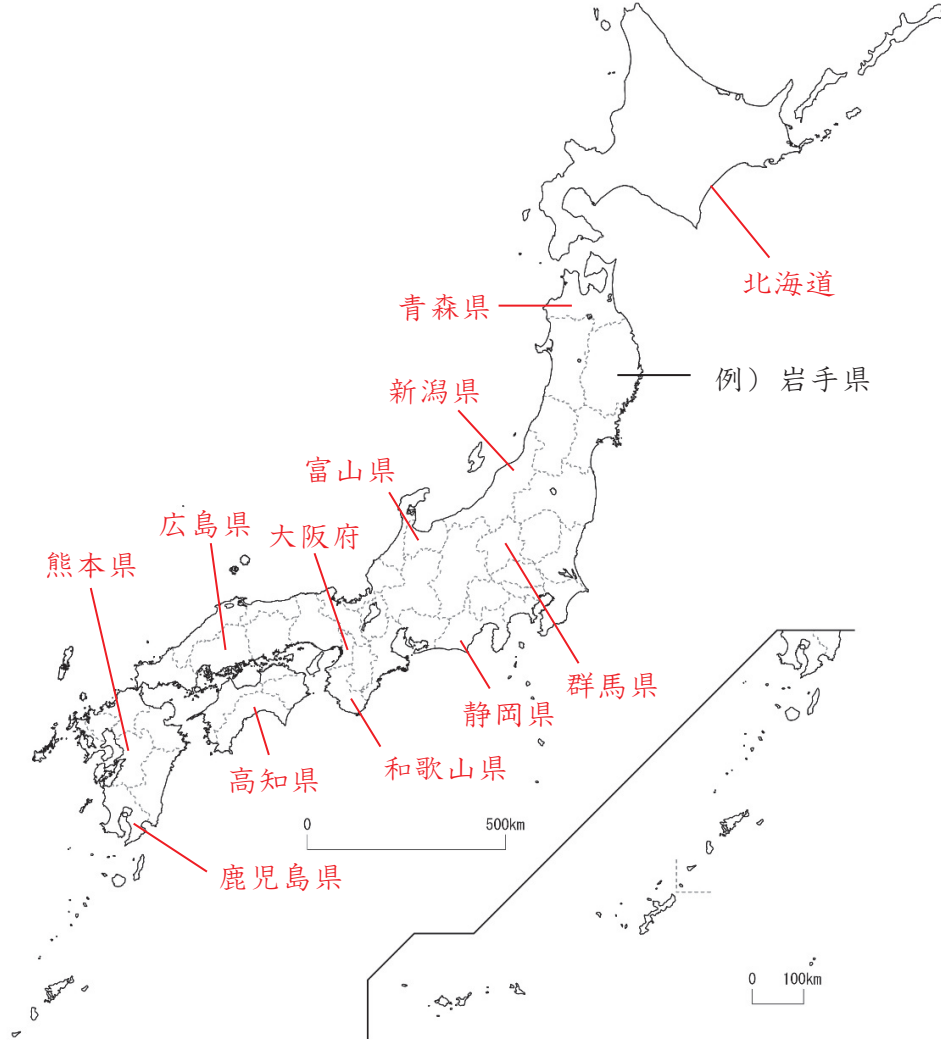
( 京都 ) 府 ( 大阪 ) 府

- ③ 東京都に面している県に青色をぬりましょう。

(千葉県、埼玉県、山梨県、神奈川県にぬる)

4-(2)	と どう ふ け ん 日本の都道府県 2	年 組
		名前

下の地図を見て答えましょう。



1 つぎの都道府県の位置を、例にならって白地図の中に書きましょう。

ほ っ かい どう 北海道	あ お も り け ん 青森県	に い が た け ん 新潟県	と や ま け ん 富山県	ぐ ん ま け ん 群馬県	し ず お か け ん 静岡県
わ か や ま け ん 和歌山県	お お さ か ふ 大阪府	ひ ろ し ま け ん 広島県	こ う ち け ん 高知県	く ま も と け ん 熊本県	か こ し ま け ん 鹿儿岛県

2 あなたが行ったことのある都道府県の名前を下の  にすべて書き、上の地図に青色をぬりましょう。

北海道、大阪府、沖縄県 など

4-(3)	日本の都道府県 3	年 組
		名前

下の地図を見て答えましょう。



1 つぎの都道府県の位置を、例にならって白地図の中に書きましょう。

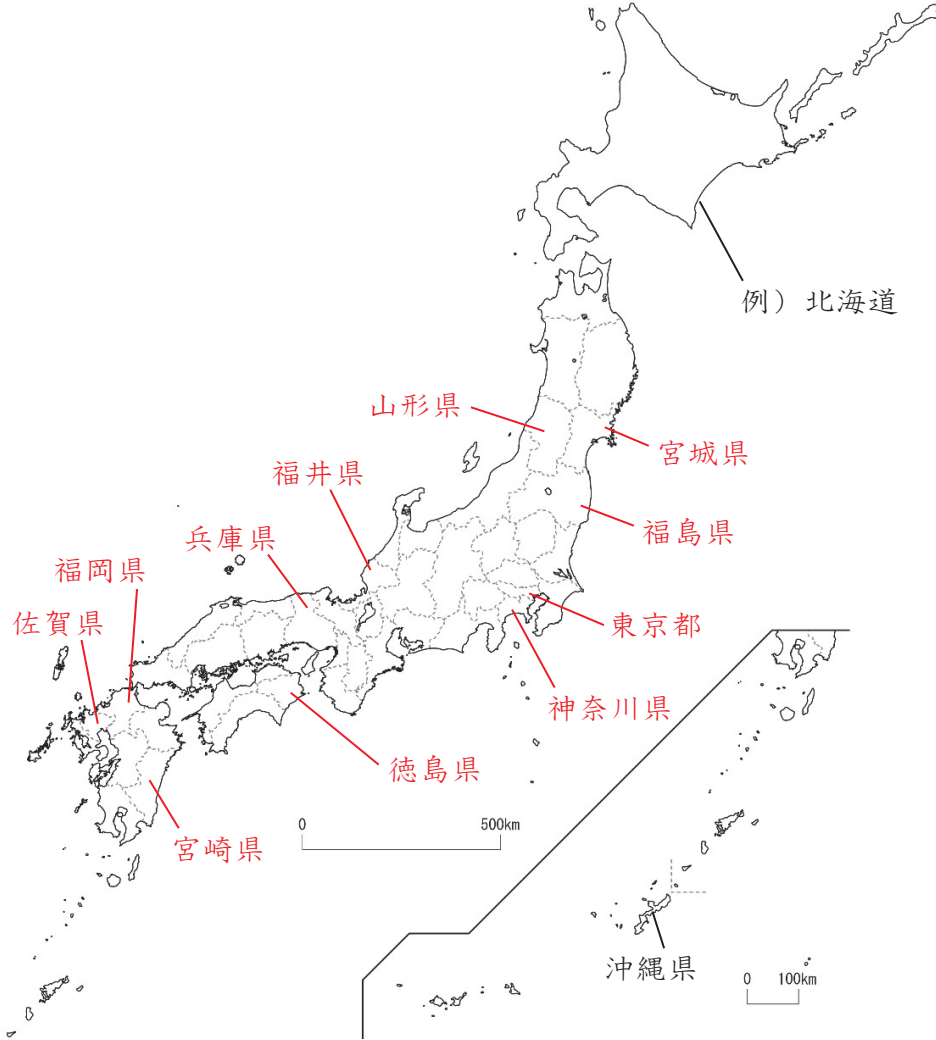
いわてけん 岩手県	さいたまけん 埼玉県	いばらきけん 茨城県	いしかわけん 石川県	あいちけん 愛知県	ぎふけん 岐阜県
しがけん 滋賀県	ならけん 奈良県	かがわけん 香川県	とっとりけん 鳥取県	しまねけん 島根県	

2 名前に「山」の字が入っている都道府県の名前を下の  にすべて書き、上の地図に青色をぬりましょう。

山形県 山梨県 富山県 和歌山県 岡山県 山口県

4-(4)	とどうふけん 日本の都道府県 4	年 組
		名前

下の地図を見て答えましょう。



1 つぎの都道府県の位置を、例にならって白地図の中に書きましょう。

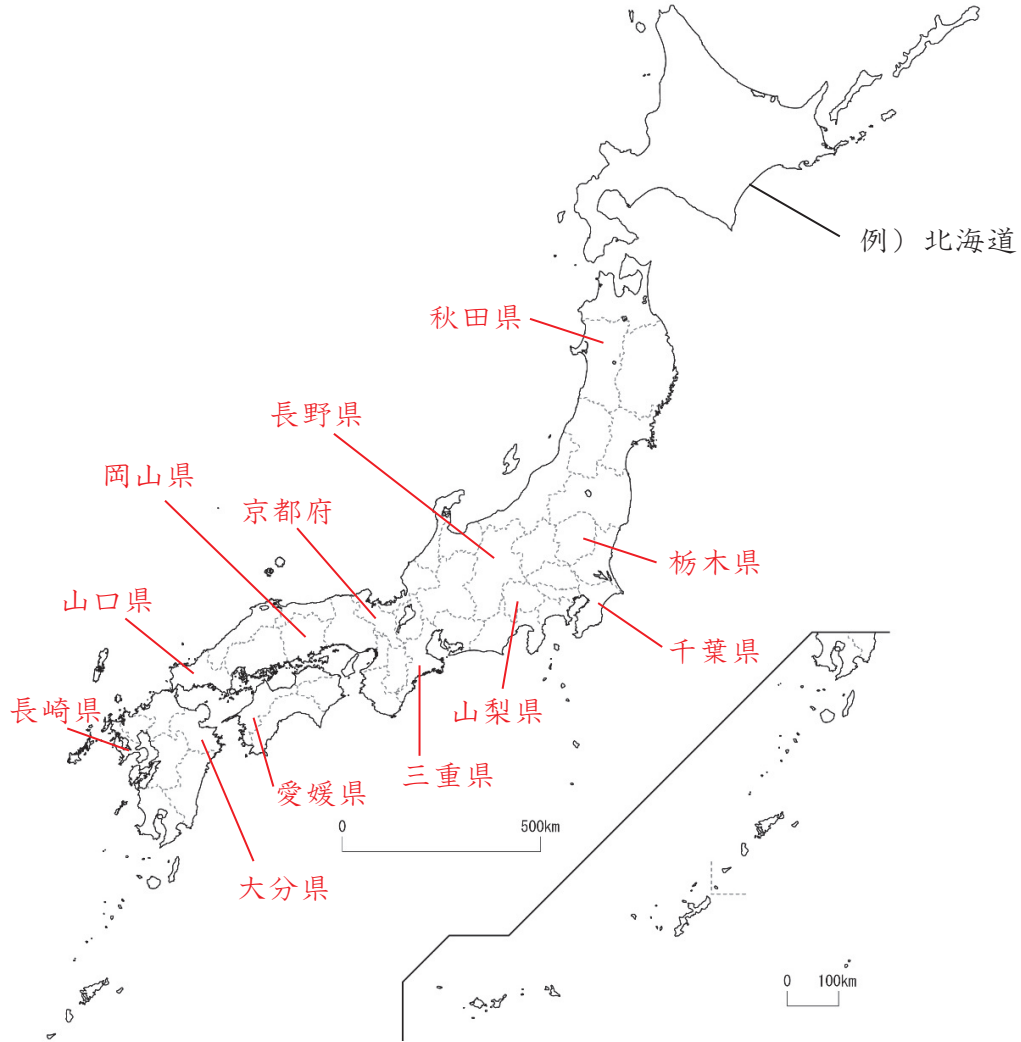
やまがたけん 山形県	みやぎけん 宮城県	ふくしまけん 福島県	かながわけん 神奈川県	ふくいけん 福井県	とうきょうと 東京都
ひょうごけん 兵庫県	とくしまけん 徳島県	ふくおかけん 福岡県	さがけん 佐賀県	みやざきけん 宮崎県	おきなわけん 沖縄県

2 海に面していない都道府県の名前を下の  にすべて書き、上の地図に青色をぬりましょう。

栃木県 群馬県 埼玉県 山梨県 長野県 岐阜県 滋賀県 奈良県

4-(5)	日本の都道府県 <small>と どう ふ け ん</small> 5	年 組
		名前

下の地図を見て答えましょう。



1 つぎの都道府県の位置を、例にならって白地図の中に書きましょう。

<small>あきたけん</small> 秋田県	<small>とちぎけん</small> 栃木県	<small>ちばけん</small> 千葉県	<small>やまなしけん</small> 山梨県	<small>ながのけん</small> 長野県	<small>みえけん</small> 三重県
<small>きょうとふ</small> 京都府	<small>えひめけん</small> 愛媛県	<small>おかやまけん</small> 岡山県	<small>やまぐちけん</small> 山口県	<small>ながさきけん</small> 長崎県	<small>おおいたけん</small> 大分県

2 名前に「動物」の字が入っている都道府県の名前を下の  にすべて書き、上の地図に青色をぬりましょう。

群馬県 鳥取県 熊本県 鹿児島県