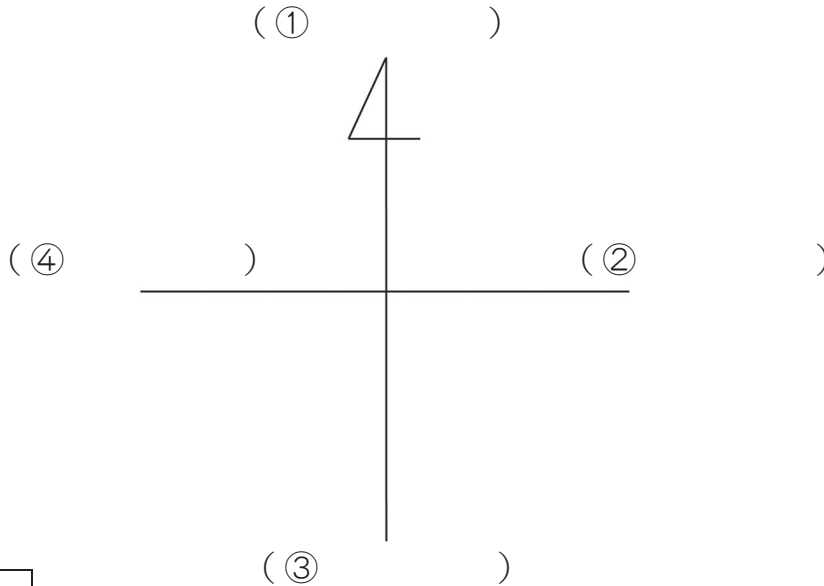


1 - (1)	地図から何が分かるかな 1	___年 ___組
		名前

1 つぎ い ごと 次の方位記号の①～④に当てはまる方位を書きましょう。



ポイント 方位記号の矢印は、「北」をさしています。

ポイント 北の反対が「南」になります。北が上のときには、「東」が右、「西」が左になります。

2 次の地図を見て、下の①～③には当てはまる方位を、④～⑥には当てはまる建物を書きましょう。

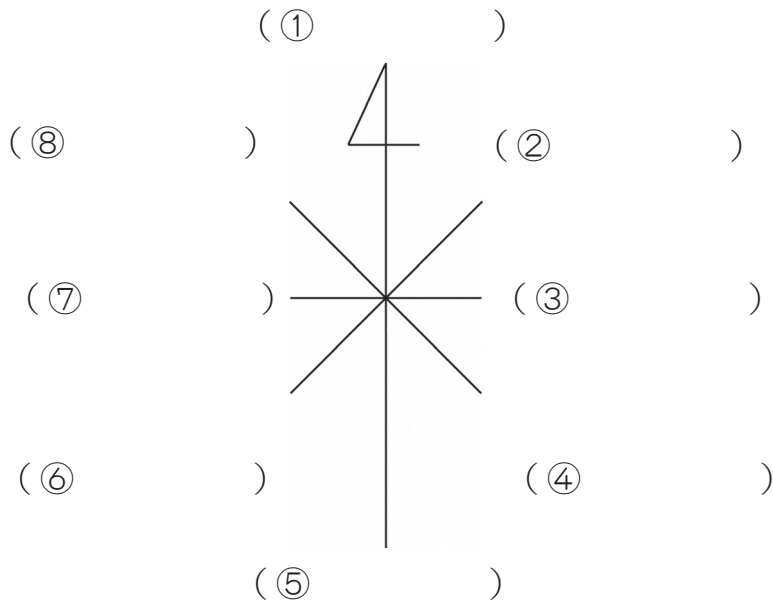


ポイント 地図はふつう北を上にしてかいてあります。方位記号が書いていない場合は、北が上になります。

- ① 市役所の () に、ゆう便局があります。
- ② 工場は、ゆう便局の () にあります。
- ③ 小学校は、グラウンドの () にあります。
- ④ 地図中で一番東にある建物は、() です。
- ⑤ 駅より西にある建物は、() ・ () ・ () です。
- ⑥ 大江戸川より南にあり、駅より西にある建物は、() です。

1 - (2)	地図から何が分かるかな 2	___年 ___組
		名前

1 つぎ い ごと 次の方位記号の①～⑧に当てはまる方位を書きましょう。



ポイント 八方位をつかうと、四方位（北、南、東、西）よりもくわしく方位をあらわすことができます。

2 次の地図を見て、下の①～③には当てはまる方位を、④～⑥には当てはまる建物の書きましょう。



- ① 小学校は、たけしくんの家（ ）にあります。
- ② 工場は、市役所の（ ）にあります。
- ③ 駅は、けい察しよの（ ）にあります。
- ④ 工場の南東には、（ ）があります。
- ⑤ 駅の北西にあるのは、（ ）です。
- ⑥ たけしくんを家の北東には、（ ）と（ ）があります。

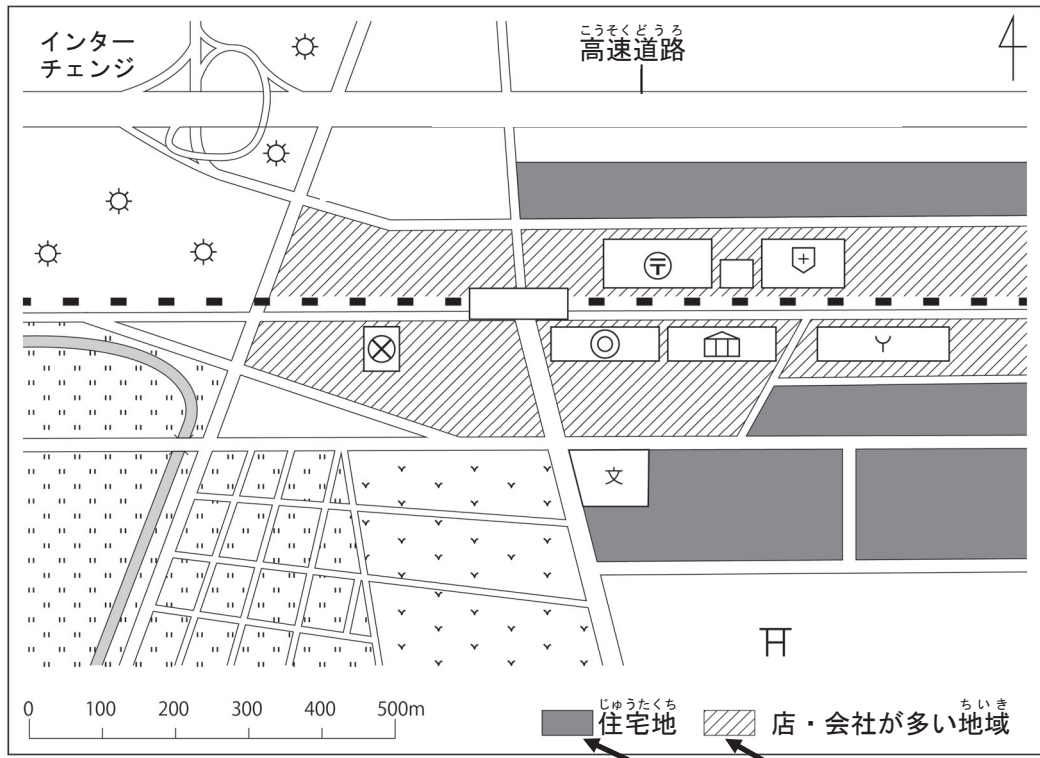
1 - (3)	地図から何が分かるかな 3	___年 ___組
		名前

1 つぎ 次 の 地 図 記 号 は、何 を 表 し て い ま す か。() に 当 て は ま る 名 前 を 書 き ま し ょ う。

⊗	⊙	⊗	Y	☀
()	()	()	()	()
⊕	⌌	⌒		∨
()	()	()	()	()

ポイント 地図記号は、「建物・しせつ」や「土地の使われ方」、「交通」にかかわるものなどを記号にしたものです。

2 下の地図を見て、①～⑤の()に当てはまる言葉を書きましょう。



ポイント 地図記号のほかにも、このように「色」や「もよう」を使って、土地の使われ方を表すことがあります。

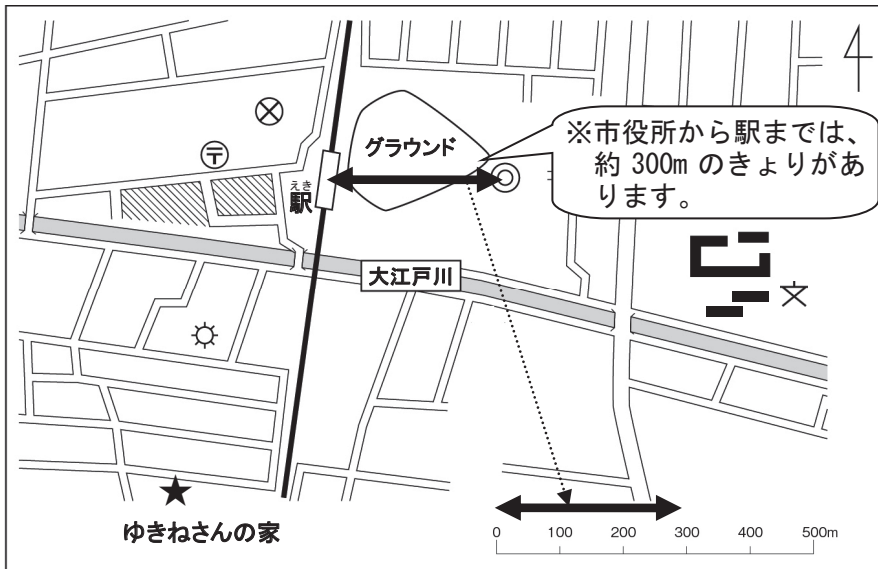
- ① 市役所から見て()には、水田が広がっています。
- ② 駅の周りには、公共しせつや()が多くあります。
- ③ 学校の東がわには、()が広がっています。
- ④ ()は、高速道路のインターチェンジの近くにたくさんあります。
- ⑤ 駅の南西を流れる川の周りには、()が広がっています。

1 - (4)	地図から何が分かるかな 4	年 組
		名前

1 次の の中に地図記号をかきましよう。

区 (市) 役所	消ぼうし	神社	工場
<input type="checkbox"/>	<input type="checkbox"/>	<input type="checkbox"/>	<input type="checkbox"/>
駅 (JR線)	ゆう便局	田	博物館
<input type="checkbox"/>	<input type="checkbox"/>	<input type="checkbox"/>	<input type="checkbox"/>

2 次の図を見て、①～⑤の () に当てはまる言葉や数字を書きましよう。



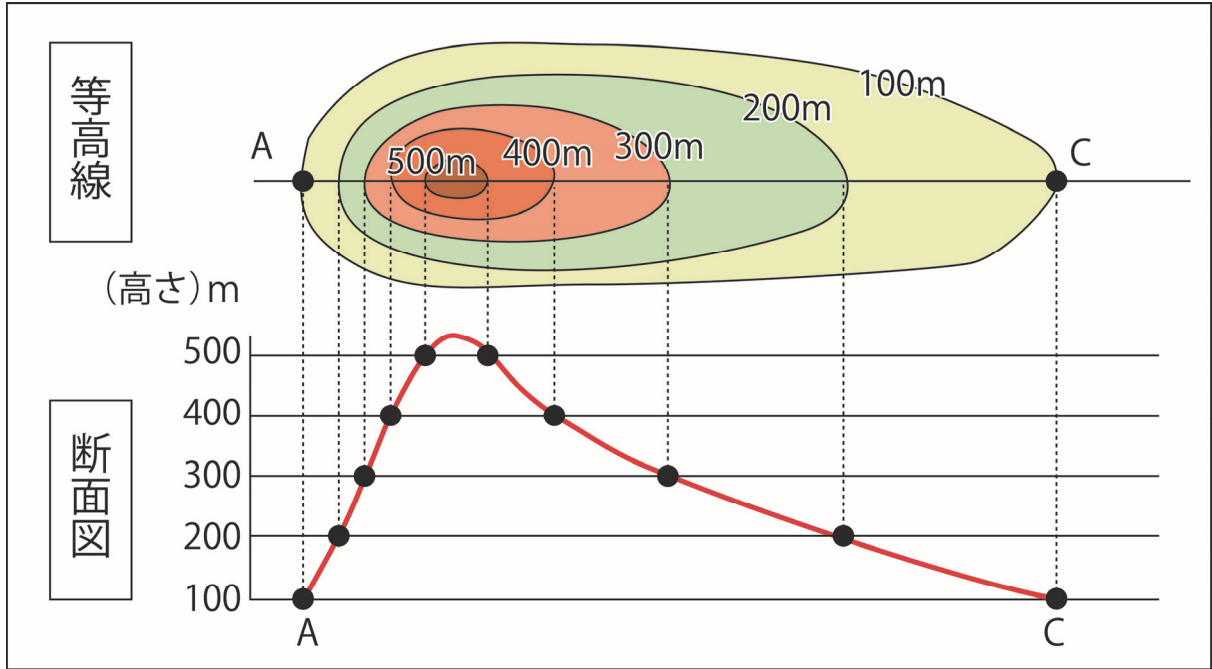
ポイント

きよりのはかり方

地図には、下のよう な「ものさし」がかか れています。この「も のさし」を使うと、実 さいのきよりをはか ることができます。

- ① 駅からけい察しよまでは、約 () mのきよりがああります。
- ② 学校からグラウンドまでは、約 () mのきよりがああります。
- ③ 駅からゆきねさんの家までは、約 () mのきよりがああります。
- ④ ゆきねさんの家から北に約300mの場所には、() がああります。
- ⑤ ゆきねさんの家から北に約500mの場所には、() がああります。

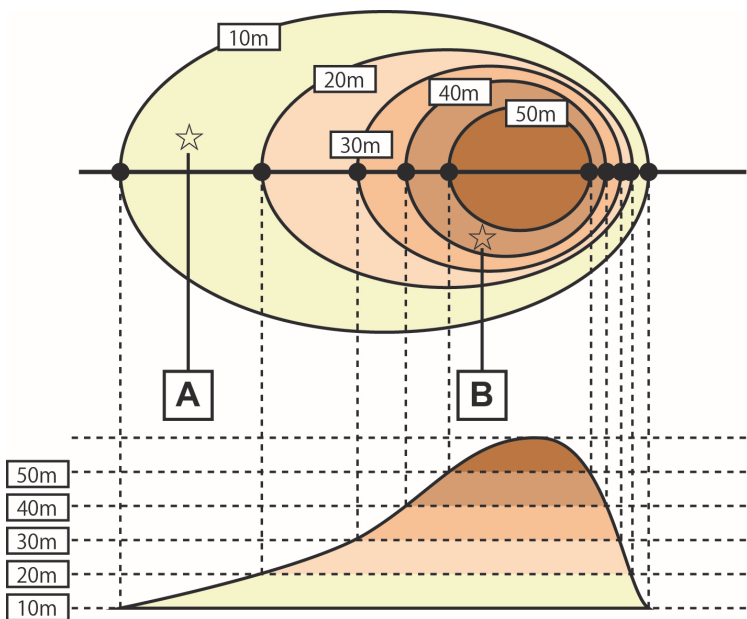
1- (5)	地図から何が分かるかな 5	___年 ___組
		名前



ポイント 等高線 (とうこうせん)

土地の高さが同じところを結んだ線を等高線と^{むす}いいます。等高線^{あらわ}で表した地図を使うと、土地の高低がよく分かります。

下の地図の **A** 地点と **B** 地点の高さを書きましょう。

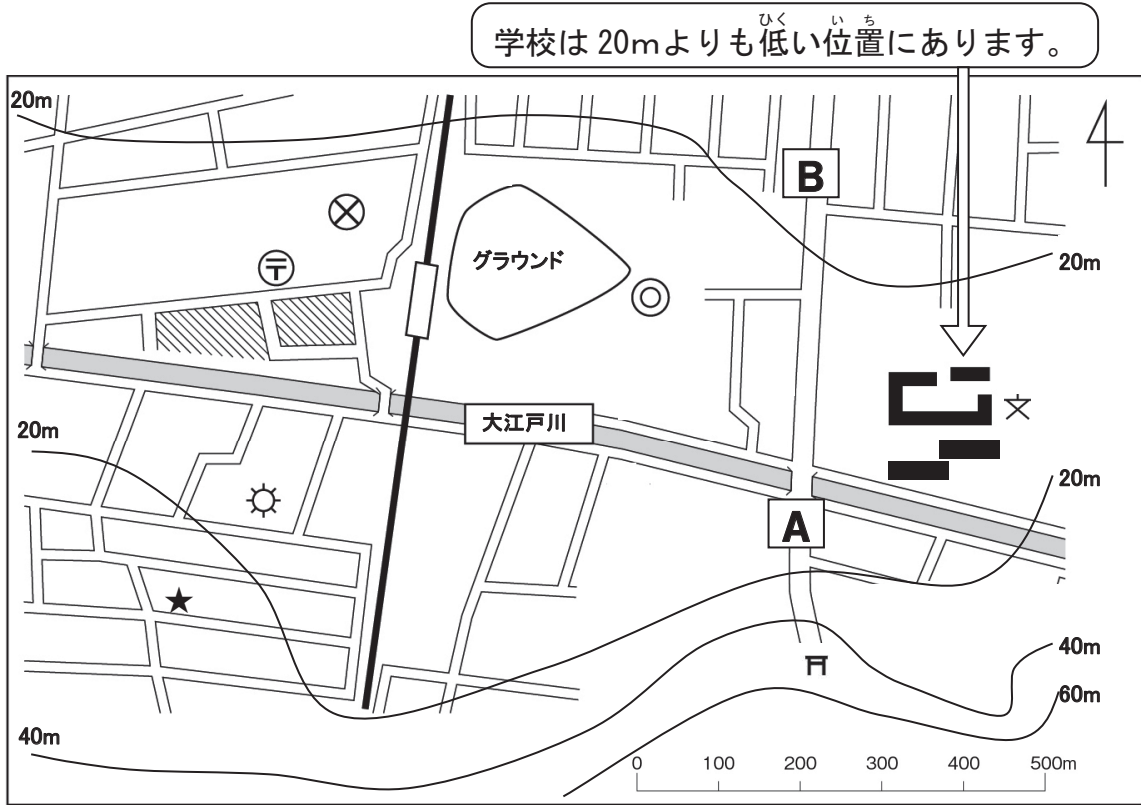


A 地点は、
高さ () m から
() m の間にあります。

B 地点は、
高さ () m から
() m の間にあります。

1-(6)	地図から何が分かるかな ろ	____年 ____組 名前
--------------	---------------	-------------------

1 つぎ 次の地図を見て、①～⑤の () に当てはまる言葉や数字を書きましょう。



- ① 神社は、高さ () m から () m の間にあります。
- ② あかねさんの家は、高さ () m から () m の間にあります。
- ③ 大江戸川の北と南では、() の土地の方が高くなっています。
- ④ **A** 地点から神社までの道は、() 坂になっています。
- ⑤ 大江戸川は、() から () の方位へ流れています。

ポイント 等高線の間がせまいと、しゃ面は急になっています。等高線の間が広いと、しゃ面はゆるやかになっています。

2 **A** 地点から神社までの道と、**A** 地点から **B** 地点までの道では、どちらの方が急な坂道になっていますか。その理由も書きましょう。

A 地点から () までの道	(理由) <div style="border: 1px solid black; width: 40px; height: 40px; margin: 0 auto; text-align: center; line-height: 40px;">A</div>
-------------------------------	----------------------------------------------------------------------------------------------------------------------------------------------------