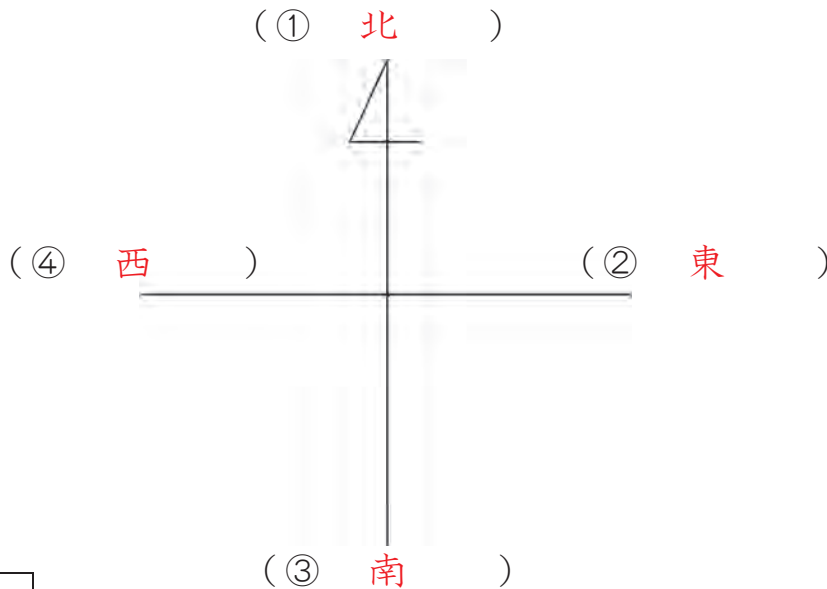


1-(1)	地図から何が分かるかな 1	___年 ___組
		名前

1 次の方位記号の①～④に当てはまる方位を書きましょう。



ポイント 方位記号の矢印は、「北」をさしています。

ポイント 北の反対が「南」になります。北が上のときには、「東」が右、「西」が左になります。

2 次の地図を見て、下の①～③には当てはまる方位を、④～⑥には当てはまる建物を書きましょう。

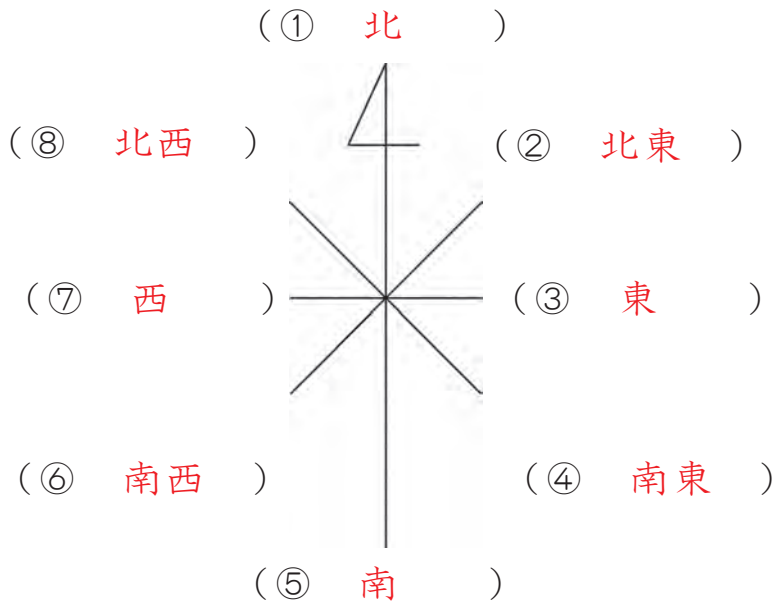


ポイント 地図はふつう北を上にしてかいてあります。方位記号が書いていない場合は、北が上になります。

- ① 市役所の (西) に、ゆう便局があります。
- ② 工場は、ゆう便局の (南) にあります。
- ③ 小学校は、グラウンドの (東) にあります。
- ④ 地図中で一番東にある建物は、(中学校) です。
- ⑤ 駅より西にある建物は、(けい察しよ) ・ (ゆう便局) ・ (工場) です。
- ⑥ 大江戸川より南にあり、駅より西にある建物は、(工場) です。

1 - (2)	地図から何が分かるかな 2	___年 ___組
		名前

1 つぎ い ごと 次の方位記号の①～⑧に当てはまる方位を書きましょう。



ポイント 八方位をつかうと、四方位（北、南、東、西）よりもくわしく方位をあらわすことができます。











2 次の地図を見て、下の①～③には当てはまる方位を、④～⑥には当てはまる建物の書きましょう。



- ① 小学校は、たけしくんの家（北東）にあります。
- ② 工場は、市役所の（南西）にあります。
- ③ 駅は、けい察しよの（南東）にあります。
- ④ 工場の南東には、（たけしくんの家）があります。
- ⑤ 駅の北西にあるのは、（けい察しよ）です。
- ⑥ たけしくんの家（北東）には、（小学校）と（中学校）があります。

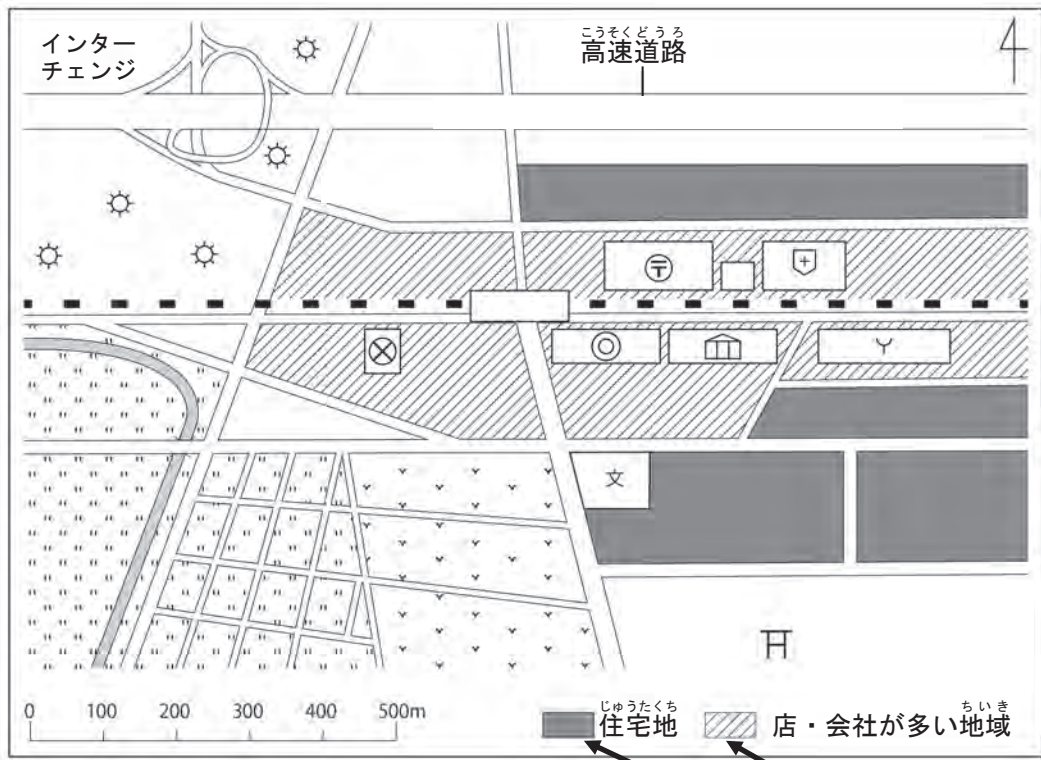
1- (3)	地図から何が分かるかな 3	年 組
		名前

1 つぎ 次の地図記号は、何を表していますか。() に当てはまる名前を書きましよう。

- | | | | | |
|---|---|---|--|---|
|  |  |  |  |  |
| (学 校) | (区 (市) 役 所) | (けい さ つ し ょ) | (消 ぼ う し ょ) | (工 場) |
|  |  |  |  |  |
| (び ょ う い ん) | (神 社) | (は く 物 か ん) | (田) | (畑) |

ポイント 地図記号は、「建物・しせつ」や「土地の使われ方」、「交通」にかかわるものなどを記号にしたものです。

2 下の地図を見て、①～⑤の () に当てはまる言葉を書きましよう。











ポイント 地図記号のほかにも、このように「色」や「もよう」を使って、土地の使われ方を表すことがあります。

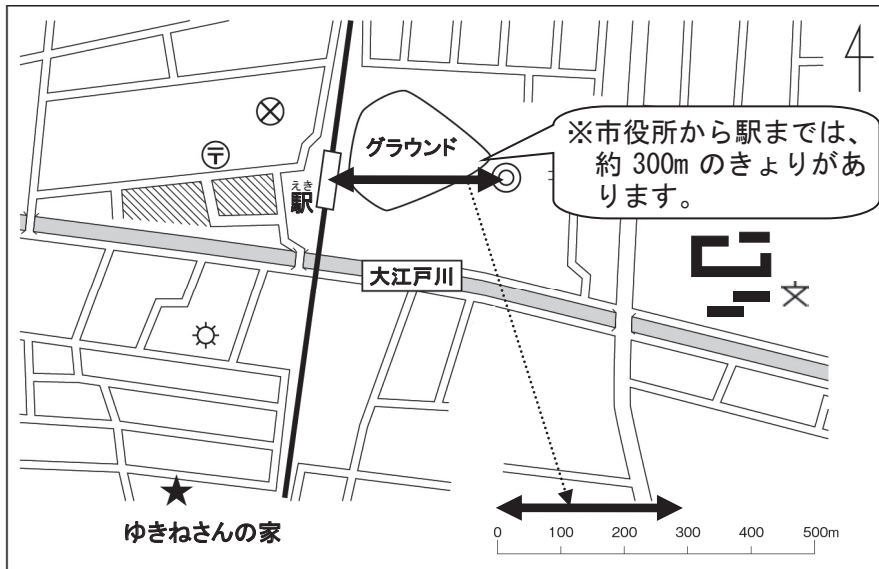
- 市役所から見て (南西 (西)) には、水田が広がっています。
- 駅のまわりには、公共しせつや (店・会社) が多くあります。
- 学校の東がわには、(住宅地) が広がっています。
- (工 場) は、高速道路のインターチェンジの近くにたくさんあります。
- 駅の南西を流れる川のまわりには、(田 (水田・田んぼ)) が広がっています。

1 - (4)	地図から何が分かるかな 4	年 組
		名前

1 次の の中に地図記号をかきましよう。

区 (市) 役所	消ぼうし	神社	工場
			
駅 (JR線)	ゆう便局	田	博物館
			

2 次の図を見て、①～⑤の () に当てはまる言葉や数字を書きましよう。



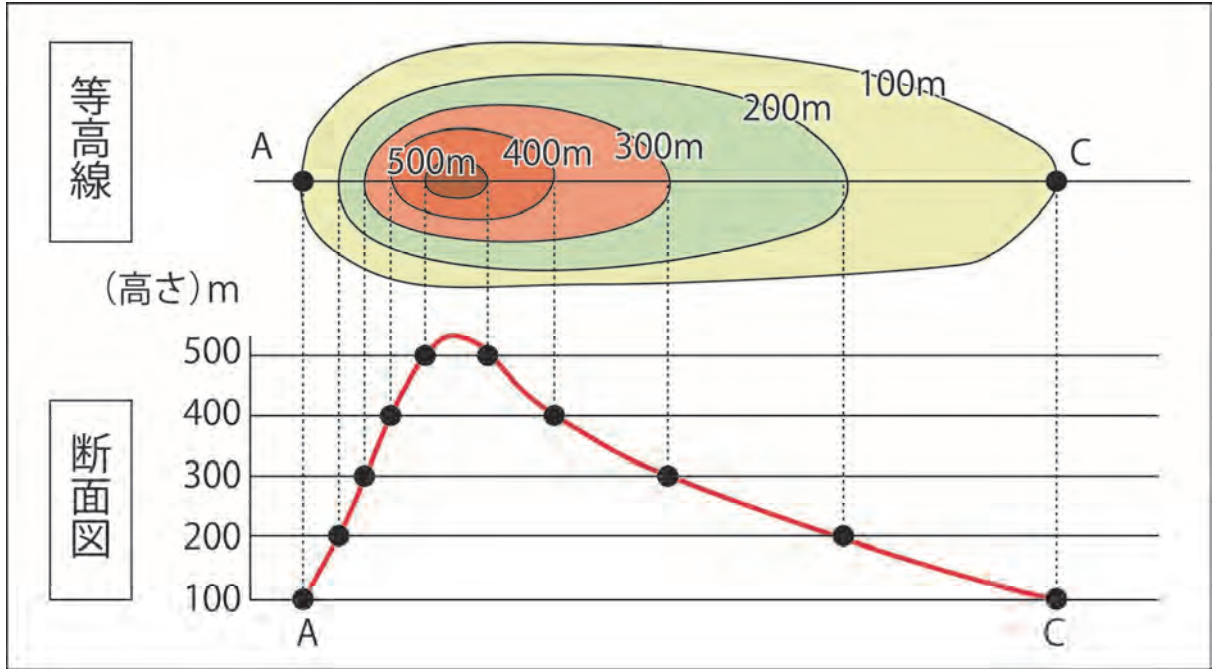
ポイント

きよりのはかり方

地図には、下のよう
な「ものさし」がかか
れています。この「も
のさし」を使うと、実
さいのきよりをはか
ることができます。

- ① 駅からけい察しよまでは、約 (100) mのきよりがあります。
- ② 学校からグラウンドまでは、約 (400) mのきよりがあります。
- ③ 駅からゆきねさんの家までは、約 (500) mのきよりがあります。
- ④ ゆきねさんの家から北に約300mの場所には、(工場) があります。
- ⑤ ゆきねさんの家から北に約500mの場所には、(ゆう便局) があります。

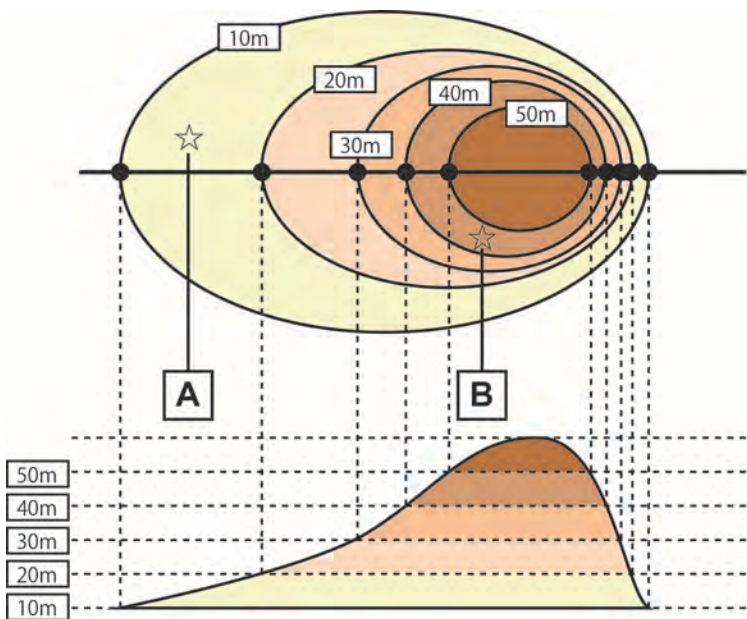
1-(5)	地図から何が分かるかな 5	年 組
		名前



ポイント 等高線 (とうこうせん)

土地の高度が同じところを結んだ線を等高線といます。等高線であらわした地図を使うと、土地の高低がよく分かります。

下の地図の **A** 地点と **B** 地点の高度を書きましょう。

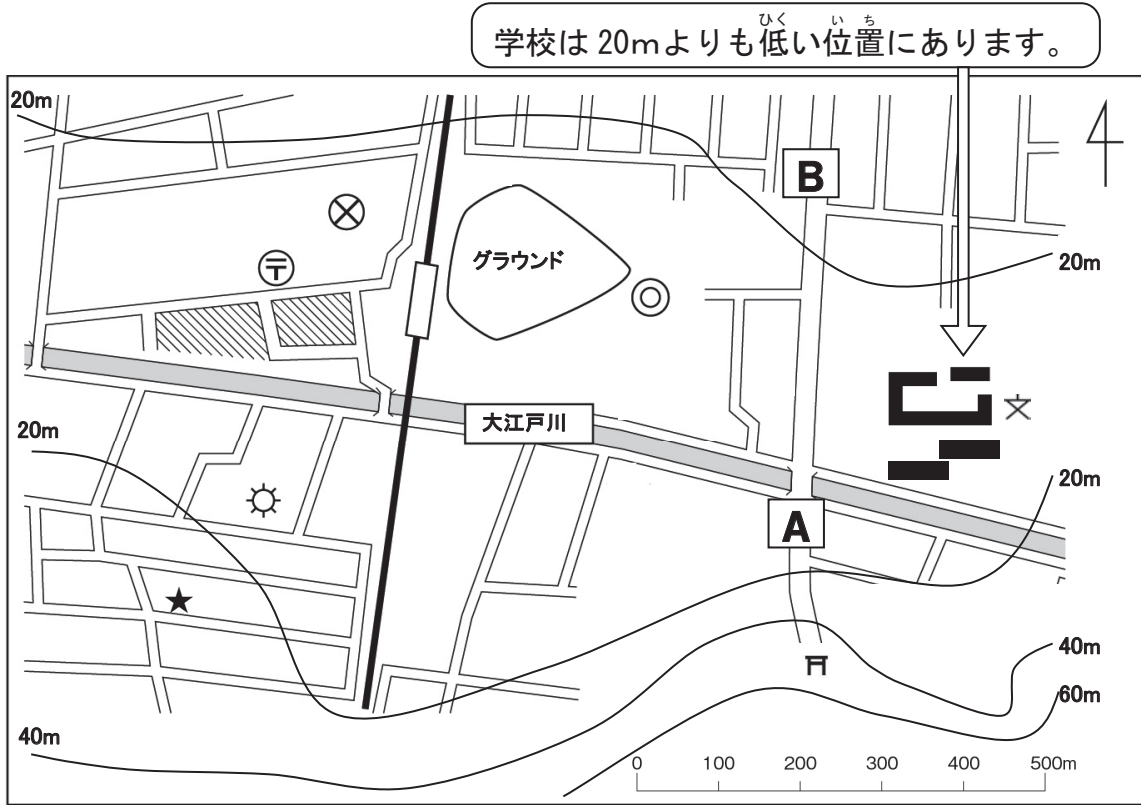


A 地点は、
 高さ (1 0) m から
 (2 0) m の間にあります。

B 地点は、
 高さ (4 0) m から
 (5 0) m の間にあります。

1-(6)	地図から何が分かるかな 6	____年 ____組 名前
--------------	---------------	-------------------

1 つぎ 次の地図を見て、①～⑤の () に当てはまる言葉や数字を書きましょう。



★あかねさんの家

- ① 神社は、高さ (4 0) m から (6 0) m の間にあります。
- ② あかねさんの家は、高さ (2 0) m から (4 0) m の間にあります。
- ③ 大江戸川の北と南では、(南) の土地の方が高くなっています。
- ④ **A** 地点から神社までの道は、(上 り) 坂になっています。
- ⑤ 大江戸川は、(東) から (西) の方位へ流れています。

ポイント 等高線の間がせまいと、しゃ面は急になっています。等高線の間が広いと、しゃ面はゆるやかになっています。

2 **A** 地点から神社までの道と、**A** 地点から **B** 地点までの道では、どちらの方が急な坂道になっていますか。その理由も書きましょう。

<p>A 地点から (神社) までの道</p>	<p>(理由)</p> <p>A 地点から神社までの方が、等高線の間がせまくなっているから。</p>
--------------------------------------	---