


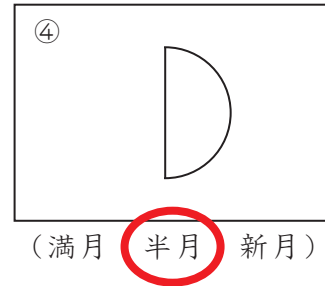
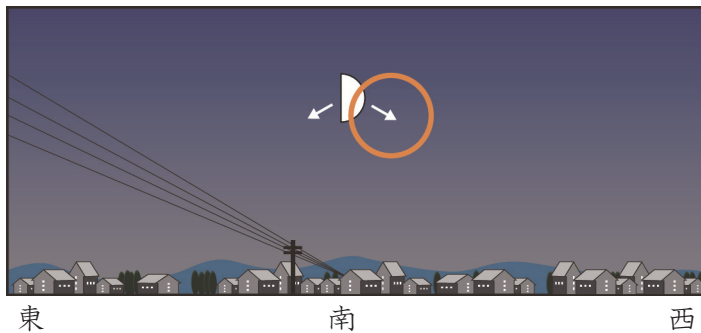
<b>5-1</b>	月と星	____年 ____組
		名前

1 月の動き方と名前について、次の問題に答えましょう。

- ① 下のように月が東の空に見えました。この後、月はどちらに動きますか。動く向きの矢印に○をつけましょう。
- ② このときの月の形の名前を（ ）の中から選び、○で囲みましよう。



- ③ ちがう日に、下のように月が南の空に見えました。この後、月はどちらに動きますか。動く向きの矢印を○で囲みましよう。
- ④ このときの月の形の名前を（ ）から選び、○で囲みましよう。



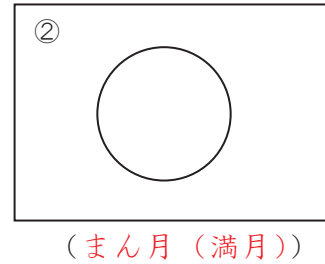

2 月と星について学習したことをまとめました。次の文の（ ）の中から当てはまる言葉を選び、○で囲みましよう。

- ① 月は、(星・太陽)と同じように、(東・西・南・北)の方からのぼり、(東・西・南・北)を通して、(東・西・南・北)の方へしずみます。
- ② 星ざは、時間がたつと、位置は (変わりません 変わります)が、ならば方は (変わりません・変わります)。
- ③ (月・太陽)には見える形がいろいろあり、(月・星)には明るさや色のちがうものがたくさんあります。

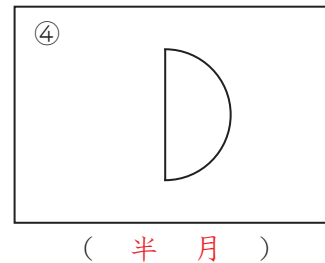
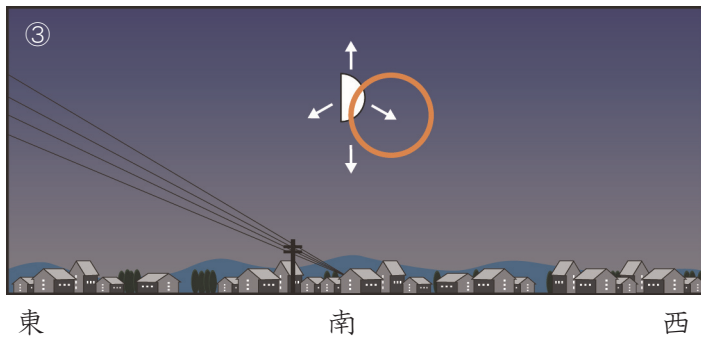
<b>5-2</b>	月と星	____年 ____組
		名前

1 月の動き方と名前について、次の問題に答えましょう。

- ① 下のように月が東の空に見えました。この後、月はどちらに動きますか。動く向き  
の矢印に○をつけましょう。
- ② このときの月の形の名前を（ ）に書きましょう。



- ③ ちがう日に、下のように月が南の空に見えました。この後、月はどちらに動きますか。動く向き  
の矢印に○をつけましょう。
- ④ このときの月の形の名前を（ ）に書きましょう。



2 月と星について学習したことをまとめました。当てはまる言葉を（ ）に書き  
ましょう。

(1) 月は、( 太陽 ) と同じように、( 東 ) の方からのぼり、( 南 ) を  
通って、( 西 ) の方へしずみます。

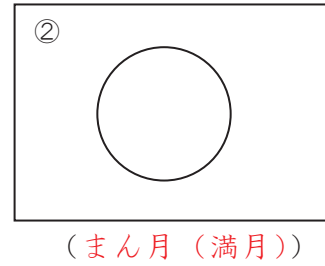
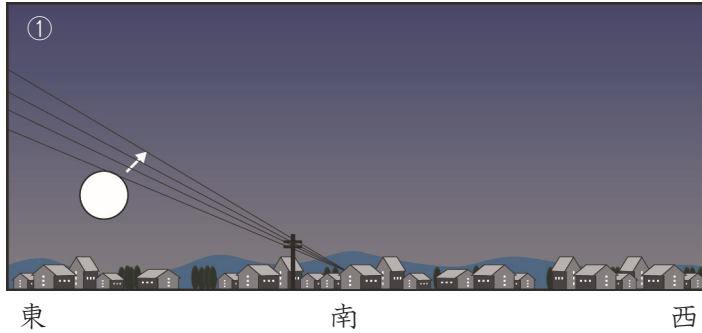
(2) 星々は、時間がたつと、位置は ( か (変) わります ) が、ならび方は  
( か (変) わりません ) 。

(3) ( 月 ) には見える形がいろいろあり、( 星 ) には明るさや色のちがう  
ものがたくさんあります。

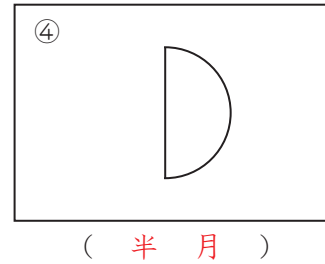
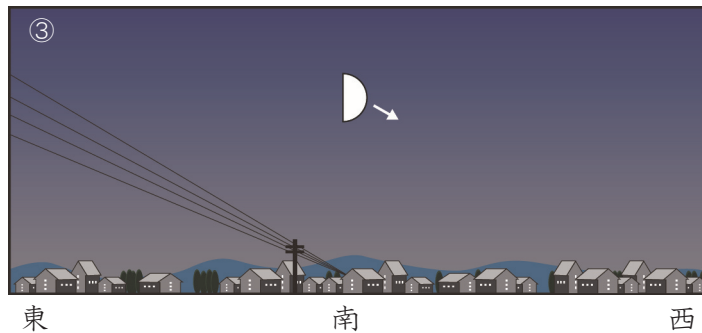
<b>5-3</b>	月と星	____年 ____組
		名前

1 月の動き方と名前について、次の問題に答えましょう。

- ① 下のように月が東の空に見えました。この後、月はどちらに動きますか。動く向きに矢印を書きましょう。
- ② このときの月の形の名前を（ ）に書きましょう。



- ③ ちがう日に、下のように月が南の空に見えました。この後、月はどちらに動きますか。動く向きに矢印を書きましょう。
- ④ このときの月の形の名前を（ ）に書きましょう。



2 月と星について学習したことをまとめました。当てはまる言葉を（ ）に書きましょう。

(1) 月は、( 太陽 ) と同じように、( 東 ) の方からのぼり、( 南 ) を通って、( 西 ) の方へしずみます。

(2) 星々は、時間がたつと、位置は ( か (変) わります ) が、ならば方は ( か (変) わりません )。

(3) ( 月 ) には見える形がいろいろあり、( 星 ) には明るさや色のちがうものがたくさんあります。