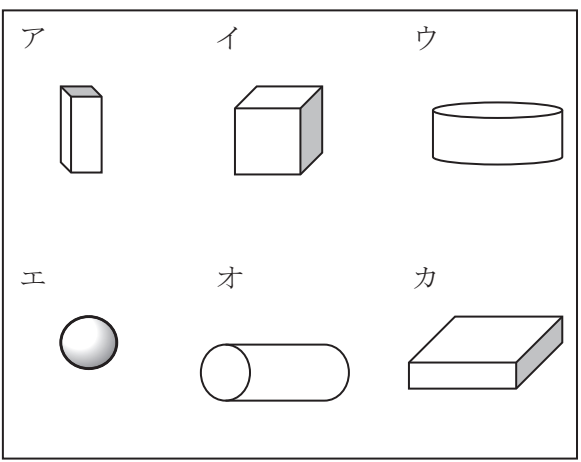
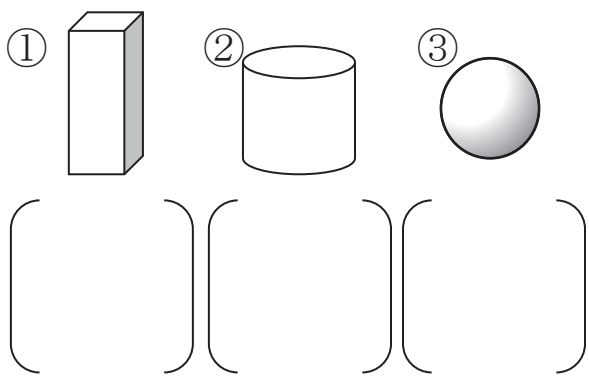
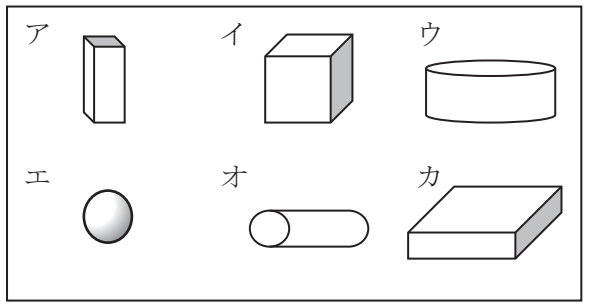




1年 8 (1)	かたち	____ねん ____くみ なまえ
-----------------------	-----	----------------------

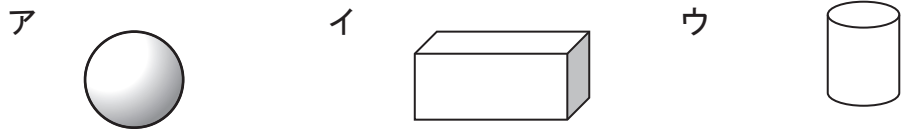
①②③のかたちに、にているかたちを、あつめましょう。



どのかたちを つかいますか。







わたしはだれでしょう。











- ① 「上から見ても、よこから見ても、しかくいです。」 ()
- ② 「上から見るとまるくて、よこから見るとしかくいです。」 ()
- ③ 「上から見ても、よこから見てもまるいです。」 ()



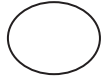

1年 8 (2)	かたち	____ねん ____くみ なまえ
-----------------------	-----	----------------------

おなじ かたち、いろをぬりましょう。

①  (  )

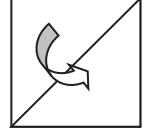
②  (  )

③  (  )

④  (  )

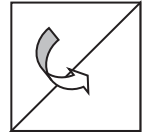
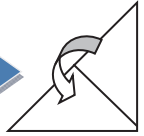
しかくい おりがみを、つぎのように、1かい おります。さんかくは いくつ できますか。

1かいおる

 ()

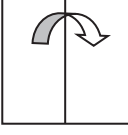
しかくい おりがみを、つぎのように 2かい おります。さんかくは いくつ できますか。

2かいおる

 →  ()

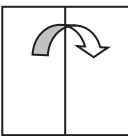

しかくい おりがみを、つぎのように 1かい おります。しかくは いくつ できますか。

1かいおる

 ()

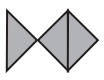
しかくい おりがみを、つぎのように 2かい おります。しかくは いくつ できますか。

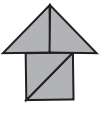
2かいおる


 →  ()


1年 8 (3)	かたち	____ ねん ____ ぐみ なまえ
-----------------------	-----	------------------------





なに ^みに見えますか。

①  ()


②  ()



③  ()



 このかたちは、どのかたちと
 どのかたちで できますか。

ア  イ  ウ  エ 


() と ()


 このかたちから、さんかくの
 いたを 1まい うごかして でき
 るかたちは、どれと どれでしょう。
 また、2まい うごかして できるか
 たちは、どれと どれでしょう。


ア  イ 

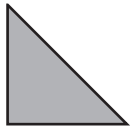
ウ  エ 

1まいうごかす () と ()
 2まいうごかす () と ()

つぎのかたちは、 このさんかくのいたが、なんまいで できるでしょう。

ア  () まい

イ  () まい

ウ  () まい

