





1年 <b>6</b> (1)	くらべかた	___ねん ___くみ なまえ
-----------------------	-------	--------------------

どちらが、ながいでしょう。



ア 


イ  (イ)


ウ 


エ  (ウ)


オ      カ

  (カ)

ア 


イ 


ウ 

エ 

- ①いちばん ながいのは、  
どれでしょう。 (エ)
- ②いちばん みじかいのは、  
どれでしょう。 (イ)
- ③ながさが おなじなのは、  
どれと どれでしょう。  
(ア) と (ウ)

どちらがながいでしょう。

ア 

イ  (イ)

1年 <b>6</b> (2)	くらべかた	____ねん ____くみ なまえ
-----------------------	-------	----------------------

たてと よこは、えんぴつ なん  
ほん  
 本ぶんの ながさでしょう。

たて  
て

よこ

たて えんぴつ ( 4 ) 本ぶん  
 よこ えんぴつ ( 5 ) 本ぶん

つぎの えんぴつは、ますめ  
 なんますぶんの ながさでしょう。

		イ						
		↑	→					ウ
	ア	↑						
	↑		→					エ

ア ますめ ( 2 ) ますぶん  
 イ ますめ ( 4 ) ますぶん  
 ウ ますめ ( 5 ) ますぶん  
 エ ますめ ( 3 ) ますぶん

いちばん ながい えんぴつは ( ウ )

だいすけくんが 知っていることは、<sup>ただ</sup>正しい でしょうか。 それとも、まちがっている でしょうか。

ノート

だいすけくん


ノートのたては、えんぴつ4こぶん。ノートのよこは、けしむ4こぶん。だから、たてと よこは、おなじながさだ。

だいすけくんの かんがえは、( 正しい。 ・ まちがっている。 )

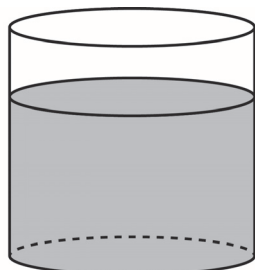
1年 <b>6</b> (3)	くらべかた	____ねん ____くみ なまえ
-----------------------	-------	----------------------

かさが おおいのは、  
どちらでしょう。

ア




イ

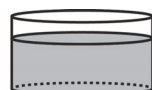


( イ )

ウ




エ




( ウ )

つぎの <sup>い</sup>入れものにはいる  
<sup>みず</sup>水のかさは、コップ なんはい  
ぶんでしょう。


ア






コップ ( 4 ) はいぶん

イ







コップ ( 9 ) はいぶん

イのほうが、アよりも ( 5 ) はい おおい。

つぎの <sup>はい</sup>入れものに 入る 水のかさは コップ なんはいぶんでしょう。








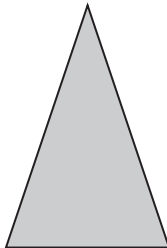
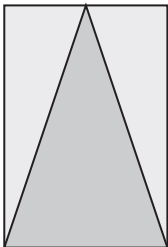
コップ ( 7 ) はいぶん


1年 <b>6</b> (4)	くらべかた	____ねん ____くみ なまえ
-----------------------	-------	----------------------

ひろいのは、どちらでしょう。

ア  → 

イ  (イ)がひろい。



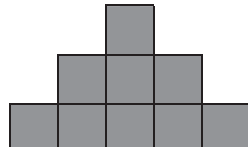
ウ  → 

エ  (エ)がひろい。

しろ<sup>しろ</sup>いぶぶんと くろいぶぶん  
は どちらが ひろいでしょう。


( くろいぶぶん )

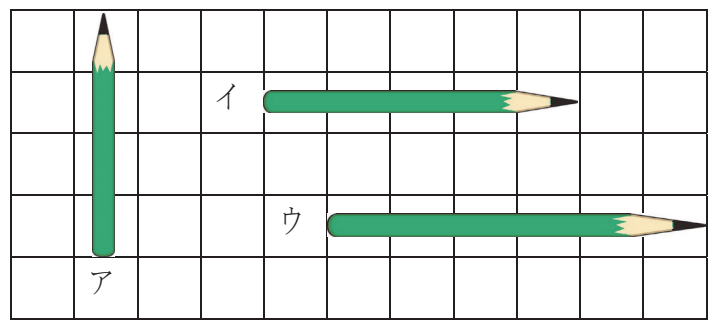
どれが いちばん ひろいでしょう。

ア       イ       ウ 

( イ )

1年 <b>6</b> (5)	くらべかた	____ねん ____くみ なまえ
-----------------------	-------	----------------------

ながいじゆんに、こたえましょう。



(ウ) → (イ) → (ア)

いちばん たくさん ものが <sup>はい</sup> 入る <sup>い</sup> 入れものは、どれですか。



どちらの けいじばんが ひろい ですか。

