

令和4年度入学者
東京都立知的障害特別支援学校
高等部就業技術科及び職能開発科

適性検査 I - 2

注 意

- 1 指示があるまで、検査を始めてはいけません。
- 2 声を出して読んではいけません。
- 3 検査をしている間は、話をしてはいけません。
- 4 検査内容に関する質問には答えられません。
- 5 受験番号を決められた欄に記入しなさい。

受験番号

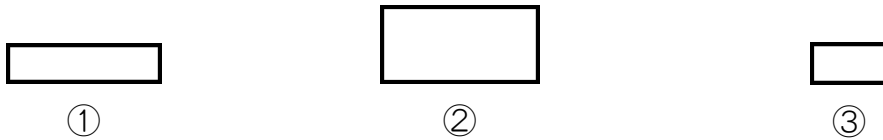
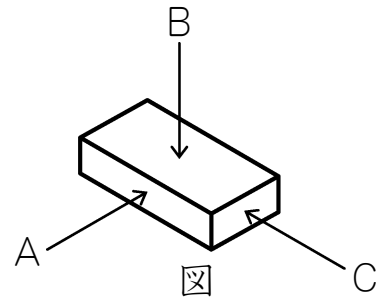
得 点

【問題 1】

次の（例）に^{したが}って、各問いに答えなさい。

（例）

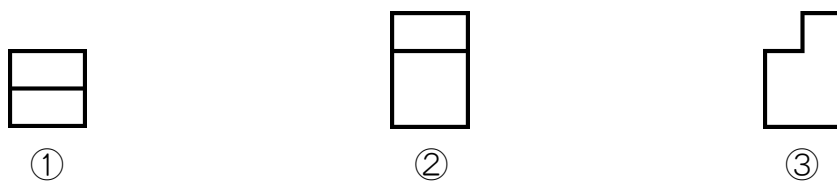
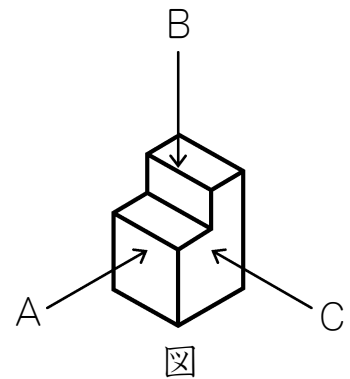
右の図は、ある立体を表しています。
 それぞれ矢印 A～C の方向から見て、
 もっともあてはまる形をそれぞれ下の
 ①～③から^{らん}選び、【答え】の欄に番号を
 書きなさい。



【答え】	A	①	B	②	C	③
------	---	---	---	---	---	---

（問 1）

右の図は、ある立体を表しています。
 それぞれ矢印 A～C の方向から見て、
 もっともあてはまる形をそれぞれ下の
 ①～③から^{らん}選び、【答え】の欄に番号を
 書きなさい。

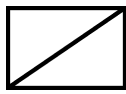
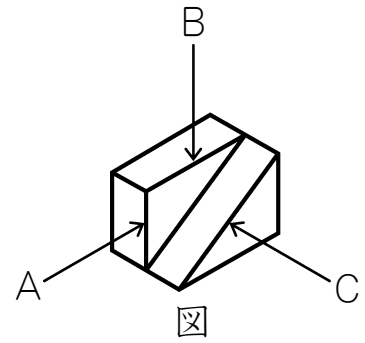


【答え】	A		B		C	
------	---	--	---	--	---	--

(問2)

右の図は、ある立体を表しています。

それぞれ矢印A～Cの方向から見て、
もっともあてはまる形をそれぞれ下の
①～③から選び、【答え】の欄に番号を
書きなさい。



①



②



③

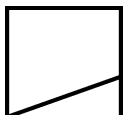
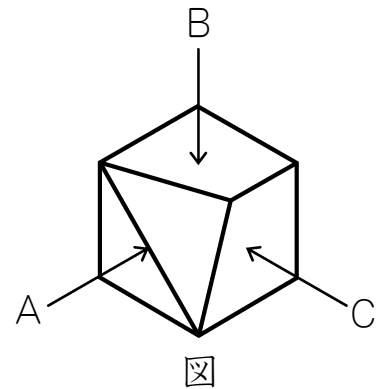
【答え】

A		B		C	
---	--	---	--	---	--

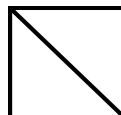
(問3)

右の図は、ある立体を表しています。

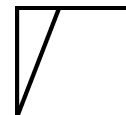
それぞれ矢印A～Cの方向から見て、
もっともあてはまる形をそれぞれ下の
①～③から選び、【答え】の欄に番号を
書きなさい。



①



②



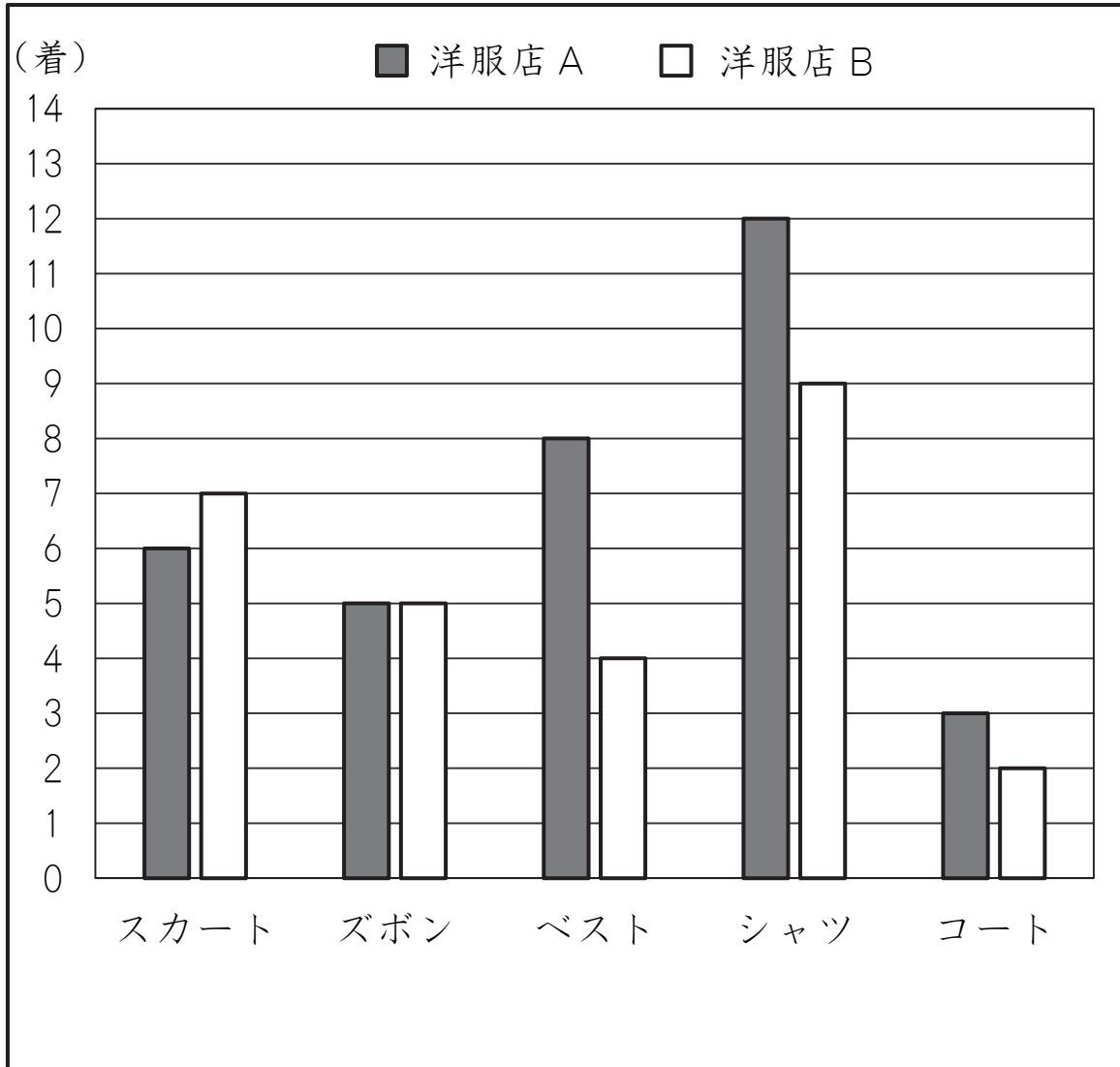
③

【答え】

A		B		C	
---	--	---	--	---	--

【問題 2】

下のグラフは、洋服店 A と洋服店 B で 1 週間に売れた服の数を表したものです。このグラフを見て、各問いに答えなさい。



(問 1)

洋服店 A で、1 番多く売れた服は何ですか。

また、何着売れましたか。

【答え】 1 番多く売れた服は

で

(問 2)

洋服店 A と洋服店 B で、売れた数が同じ服は何ですか。
また、何着ずつ売れましたか。

【答え】 売れた数が同じ服は

で

着

(問 3)

洋服店 A と洋服店 B のそれぞれの店で売れた全ての服の数の合計を比べると、どちらの洋服店が、何着多いですか。

【答え】

洋服店

が

着

多い

(問 4)

洋服店 A では、シャツ 2 着を 1 セットとして 800 円で売りました。売れたシャツの合計金額は、何円になりますか。

【答え】

円

【問題3】

学校の棚たなに、箱に入った文具があります。下の表は、棚にある文具の数をまとめたものです。次の各問いに答えなさい。

文具名	箱の数	1箱に入っている数
えん筆	4箱	12本
はさみ	3箱	10本
けい光ペン	9箱	5本
カッターナイフ	6箱	10本
じょうぎ	2箱	20本

(問1)

棚にあるえん筆は、全部で何本ありますか。

【答え】

本

(問2)

棚にある文具の本数が、1番多い文具はどれですか。

また、その本数を答えなさい。

【答え】 文具名

本数

本

(問3)

棚にある文具から、えん筆1本とけい光ペン2本とじょうぎ1本をセットにして、各教室に1セットずつ配ります。必要な文具をそろえて配ることができる教室の数は、いくつですか。

【答え】

(問4)

棚にある文具から、はさみ1本とけい光ペン2本とカッターナイフ1本をセットにして、12セットを配りました。配り終わったあとに、棚に残っている文具の本数を、それぞれ下の表に書きなさい。

文具名	残っている数
えん筆	本
はさみ	本
けい光ペン	本
カッターナイフ	本
じょうぎ	本

