

平成31年度 東京都立知的障害特別支援学校
高等部就業技術科及び職能開発科

適性検査 I - 2

受検番号

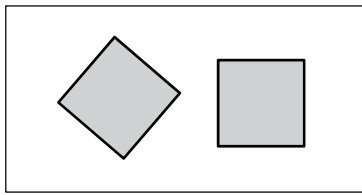
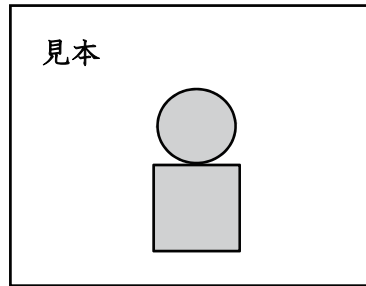
氏 名

得 点

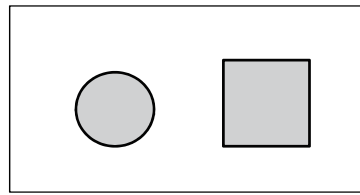
【問題1】例のように指示に従^しじ^{したが}って、下の各問に答えなさい。

例 次の見本の図形と同じ組み合わせであるものを下の

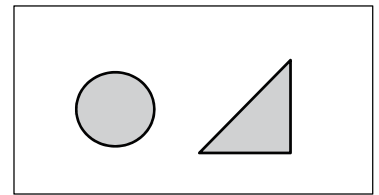
①～③から選^{らん}び、【答え】の欄に書きなさい。



①



②



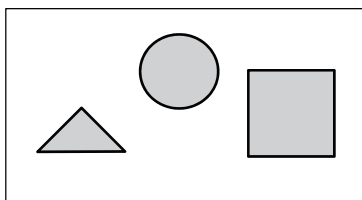
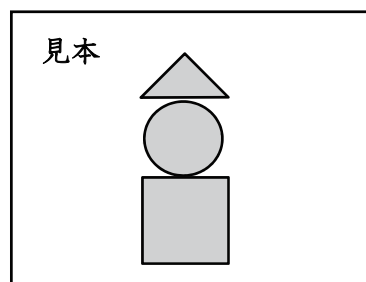
③

【答え】

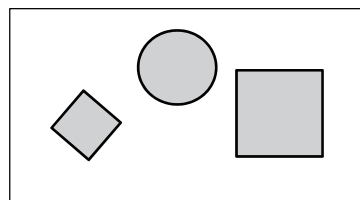
②

(問1) 次の見本の図形と同じ組み合わせであるものを下の

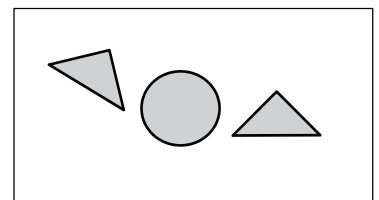
①～③から選^{らん}び、【答え】の欄に書きなさい。



①



②

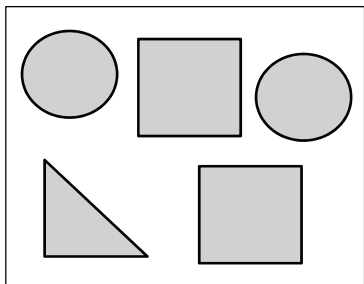
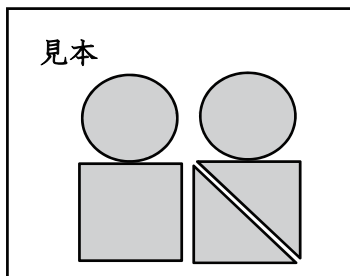


③

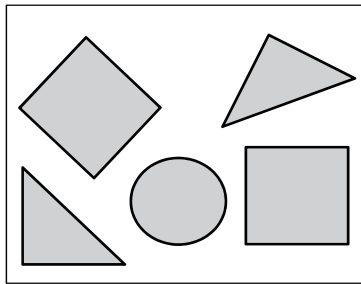
【答え】

(問2) 次の見本の図形と同じ組み合わせであるものを下の

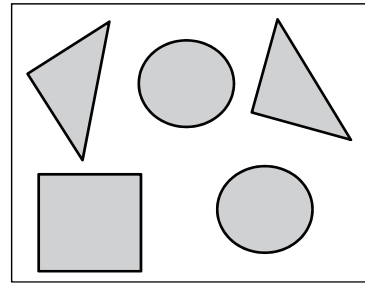
①～③から選び、【答え】の欄に書きなさい。



①



②

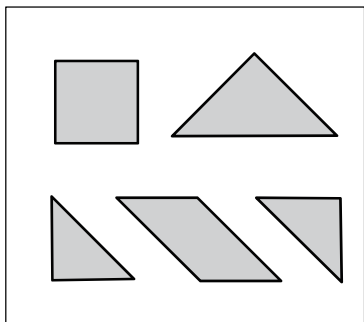
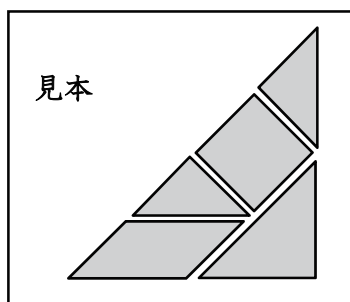


③

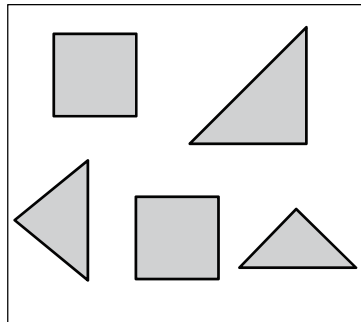
【答え】

(問3) 次の見本の図形と同じ組み合わせであるものを下の

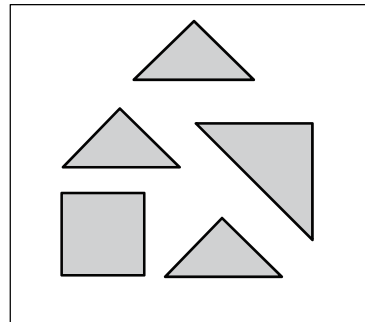
①～③から選び、【答え】の欄に書きなさい。



①



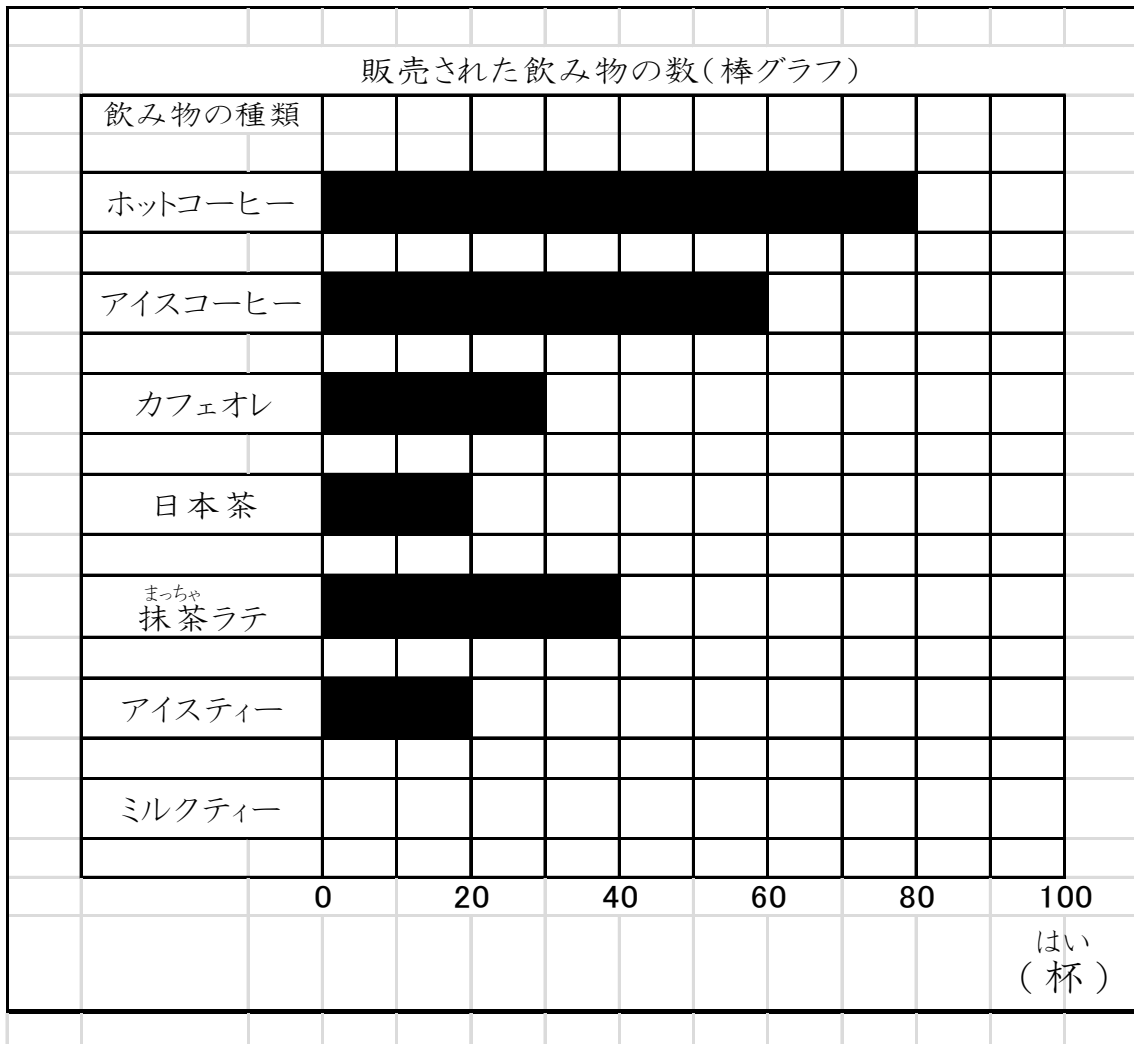
②



③

【答え】

【問題2】 次の棒グラフと表は、あるカフェで1日に販売された飲み物についてあらわしたものです。棒グラフと表を読み取って、右のページの各問に答えなさい。



販売された飲み物の数 (表)

飲み物の種類	販売された数 (杯)
ホットコーヒー	80
()	60
カフェオレ	()
日本茶	()
抹茶ラテ	()
()	20
ミルクティー	50

(問1) 左のページの棒グラフにしたがって、左のページの表の()の中に、飲み物の種類や販売された数を書き入れて、表を完成させなさい。

(問2) 完成させた左のページの表を見て、ミルクティーが販売された数に合わせて、棒グラフを完成させなさい。
答えは、棒グラフの中に販売された数の分の四角いマスをぬりつぶすこと。

(問3) 一番多く販売された飲み物はホットコーヒーでした。二番目に多く販売された飲み物は何ですか。飲み物の種類から選び、【答え】の欄らんに書きなさい。

【答え】

(問4) 販売された数が同じであった飲み物は、何と何ですか。飲み物の種類から選び、【答え】の欄に書きなさい。

【答え】

と

(問5) ホットコーヒーの販売された数は、抹茶ラテの何倍ですか。

【答え】

倍

(問6) この日に販売された飲み物は全部で何杯ですか。

【答え】


杯

【問題3】 みそ汁^{しる}の作り方をレシピカードにまとめました。
次のレシピカードの表示を見て、下の各問に答えな
さい。

レシピカード

材料（4人分）

あげ	1 枚 ^{まい}
とうふ	150 g
ねぎ	$\frac{1}{2}$ 本
みそ（だし入り）	大さじ 5 杯 ^{はい}
水	600 ml



作り方

- 1 あげ、とうふ、ねぎを切る。
- 2 なべに水と切ったあげを入れ、中火にかける。
- 3 沸騰^{ふっとう}したら、なべにとうふとねぎを入れ3分^に煮る。
- 4 みそを入れ溶^とかす。みそが溶けたら、すぐに火を止める。
- 5 味をみて、濃^こいと感じるときは、水を50ml加えて味を整える。

（問1） 4人分のみそ汁を作るために、とうふは何g必要で
すか。

【答え】 g

（問2） 大さじ1杯のみそは18gです。4人分のみそ汁を
作るために、みそは何g必要ですか。

【答え】 g

(問3) 8人分のみそ汁を作るために、ねぎは何本必要ですか。

【答え】 本

(問4) レシピカードの説明と、次のみそ汁の作り方の説明と、合っているものはどれですか。合っているものには○を、違^{ちが}っているものには×を、【答え】の欄^{らん}に書きなさい。

(1) みそはとうふよりも先に入れる。

【答え】

(2) みそを入れたら5分煮る。

【答え】

(3) みそ汁の味を薄^{うす}くするためには、なべに入れる水の量を650mLにする。

【答え】

