

平成30年度 東京都立知的障害特別支援学校
高等部就業技術科及び職能開発科

適性検査 I - 2

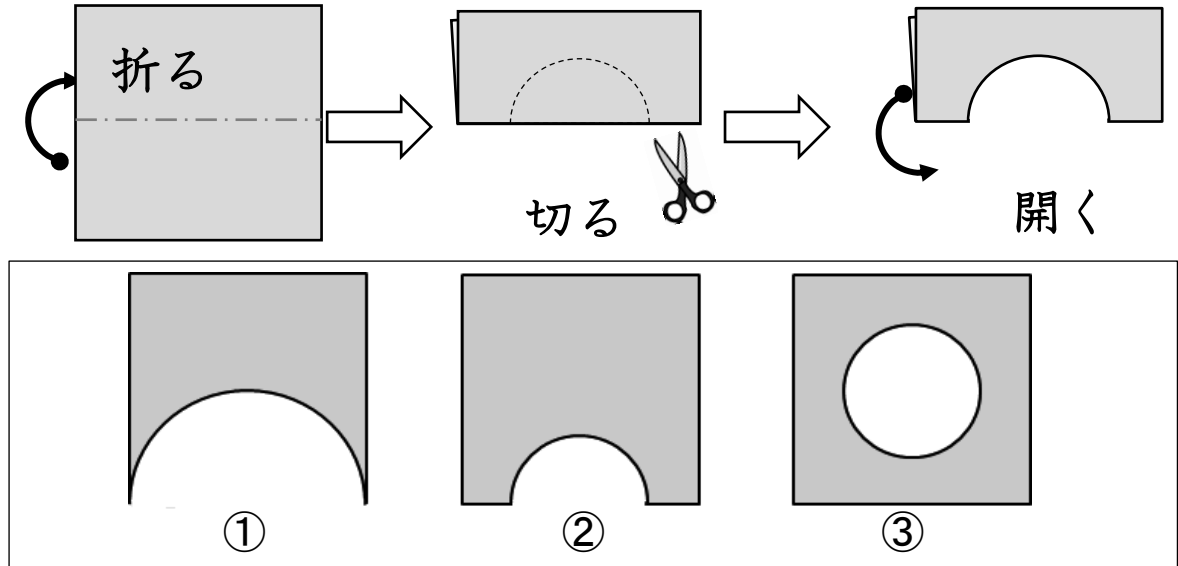
受検番号

氏 名

得 点

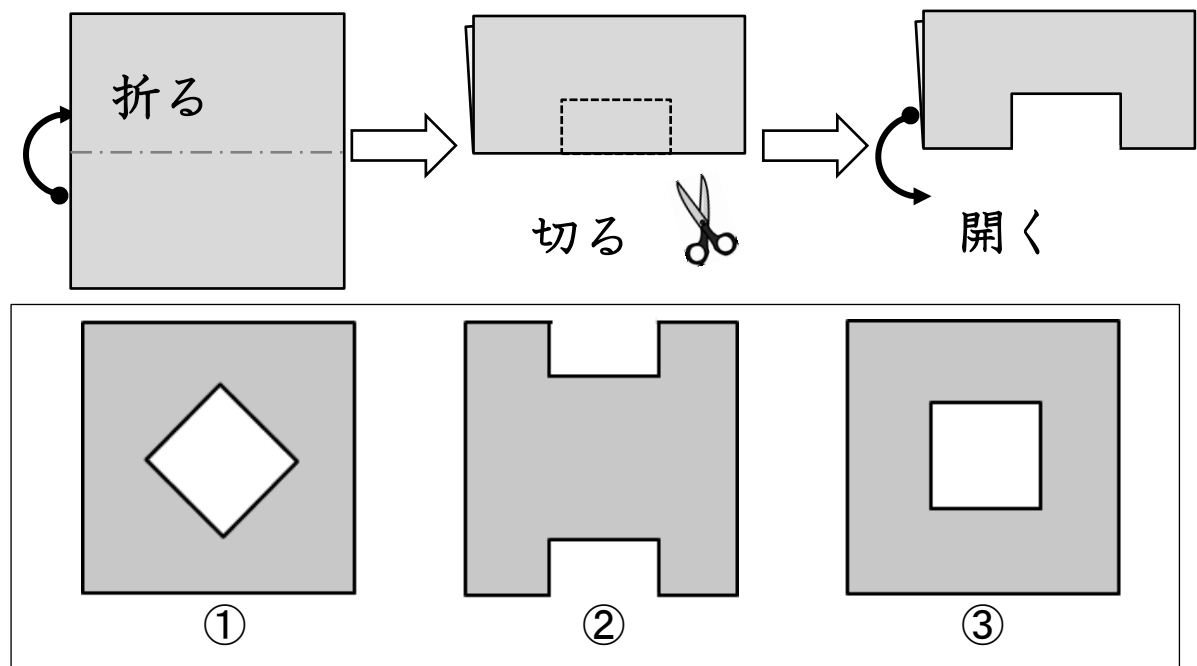
【問題 1】 **例**のように指示に従って、次の各問に答えなさい。

例 折り紙を次の図のように半分に折り、折り紙にかかれた点線を切って開くと、どの形になるか下の①～③から選び、【答え】に書きなさい。



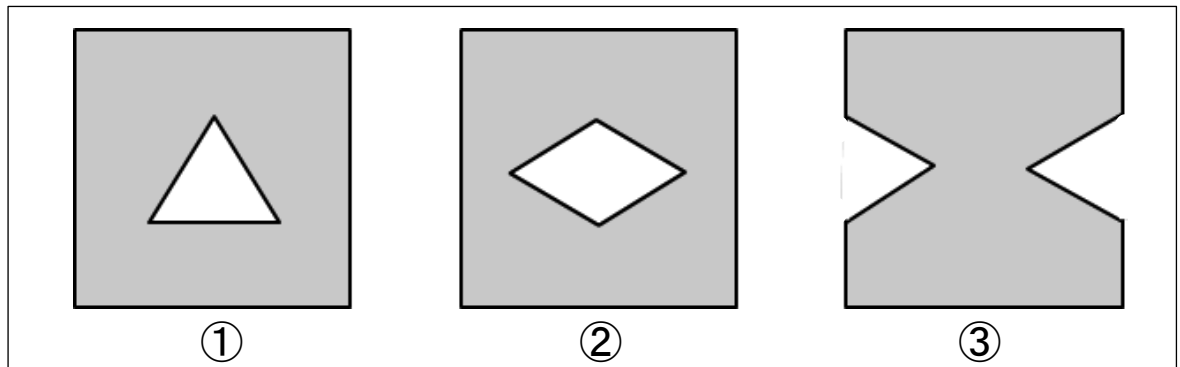
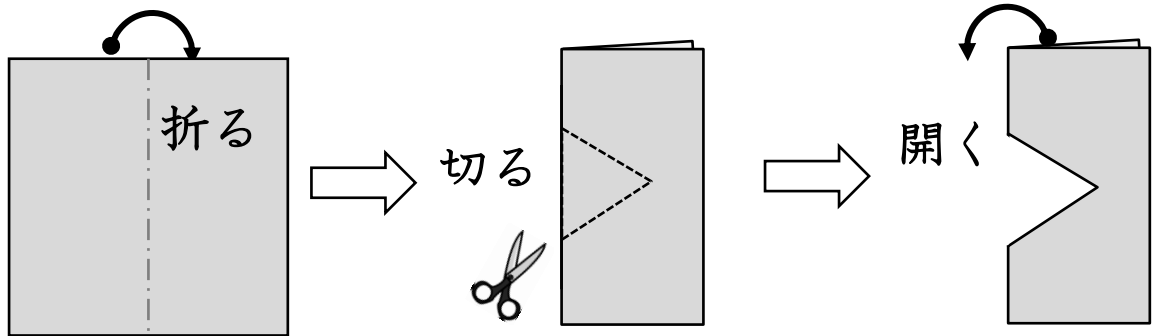
【答え】

(問 1) 折り紙を次の図のように半分に折り、折り紙にかかれた点線を切って開くと、どの形になるか下の①～③から選び、【答え】に書きなさい。



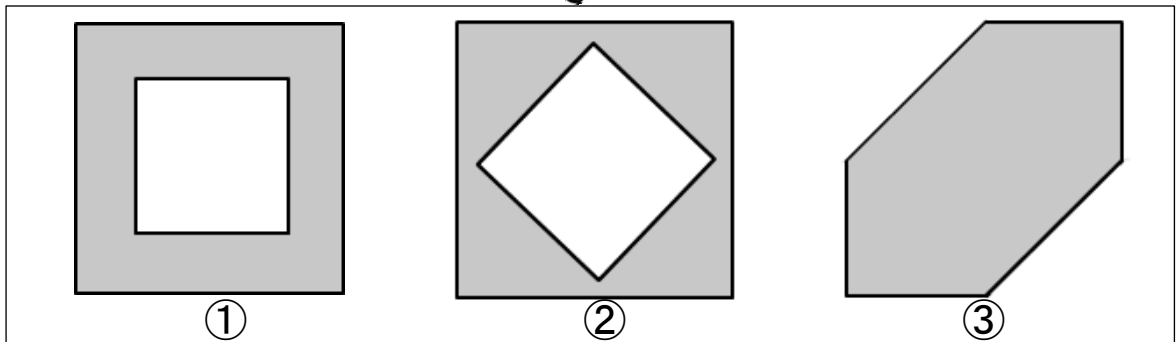
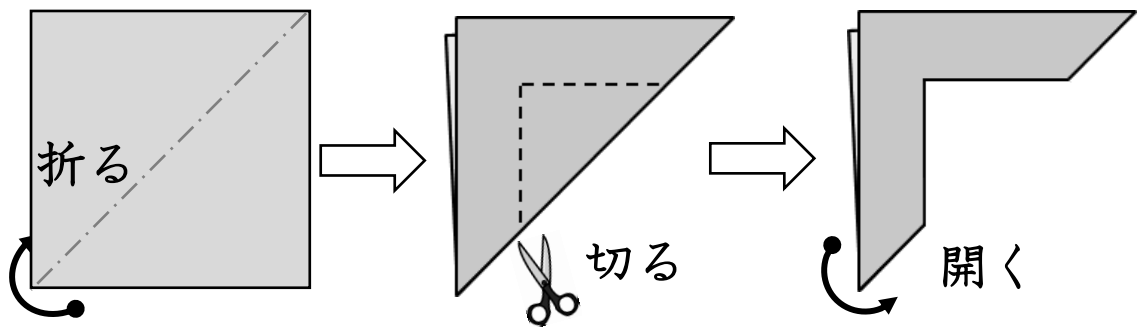
【答え】

(問2) 折り紙を次の図のように半分に折り、折り紙にかかれた点線を切って開くと、どの形になるか下の①～③から選び、【答え】に書きなさい。



【答え】

(問3) 折り紙を次の図のように半分に折り、折り紙にかかれた点線を切って開くと、どの形になるか下の①～③から選び、【答え】に書きなさい。



【答え】

【問題2】 次の図は、A店からD店までの飲食店で売れた商品の
 食券^{けん}です。右のページの問に答えなさい。

A店	B店	C店	D店
カレーライス	オムレツ	オムレツ	グラタン
オムレツ	ハヤシライス	オムレツ	ハヤシライス
オムレツ	カレーライス	グラタン	グラタン
グラタン	オムレツ	カレーライス	カレーライス
グラタン	グラタン	オムレツ	オムレツ
カレーライス	グラタン	グラタン	カレーライス
ハヤシライス	ハヤシライス	オムレツ	ハヤシライス
カレーライス	カレーライス	ハヤシライス	
オムレツ	オムレツ	グラタン	
グラタン		カレーライス	
オムレツ			
グラタン			

(問) 左のページの図を見て、飲食店ごとに食券の枚数を表にまとめましたが、まちがいがありました。**例**のように、まちがっているところに＝(二重線)を横向きに引いて正しく書き直さない。

なお次の表には、**例**のほかにまちがいが5か所あります。

《飲食店ごとの食券の枚数表》

飲食店 \ 商品	オムレツ	カレーライス	グラタン	ハヤシライス
A店	例 4	3	4	1
B店	3	3	2	2
C店	4	2	5	2
D店	2	2	2	4

(単位:枚)

【問題3】 次の表は、家から最も近いバス停の時刻表の一部です。
 下の時刻表を見て、次の各問に答えなさい。

時刻表			
時	平日	土曜日	休日
6	25 55	55	55
7	5 20 35 55	5 25 45	15 35 55
8	5 20 35 55	5 25 45	15 35 55
9	5 20 35 55	5 25 45	15 35 55
10	5 20 35 55	5 25 45	15 35 55

(問1) 平日でこのバス停を一番早く出発するバスは何時何分ですか。

【答え】

(問2) 平日の7時から8時までの間に、このバス停から何本のバスが出ていますか。

【答え】

(問3) 家からこのバス停までは10分かかります。平日の8時5分に家を出発した場合、一番早く乗ることのできるバスの出発時刻は、何時何分ですか。

【答え】

(問4) 家からこのバス停までは10分かかります。休日の9時55分のバスに乗る場合、家を何時何分までに出発すれば間に合いますか。

【答え】